

„ Este mai important cum gândești, decât ce gândești”

J. W. Goethe

1. Istoria matematicii

Newton versus Leibniz

de prof. Adrian Stan

Demonstrarea riguroasă a multor descoperiri în matematică, fizică, astronomie are la bază calculul diferențial și integral ai căror autori sunt consemnați astăzi matematicienii **Isaac Newton** (25.12.1642 – 20.03.1727) și **Gottfried Leibniz** (21.06.1646 – 14.11.1716). Cu mai mult de trei secole în urmă, lucrurile nu stăteau atât de clar, existența unui conflict între cei doi s-a datorat controverselor asupra întâietății descoperirilor legate de calculul diferențial și integral.



Încă din 1758, cercetările de istorie matematică ale lui E. Montucla, s-au aplecat asupra acestui conflict iar mai târziu în 1846, matematicianul englez Augustus de Morgan publica în „Philosophical Magazine”, un articol ce analiza cearta dintre Keil și Leibniz cu privire la recunoașterea întâietății asupra metodei fluxionilor așa cum denumise Newton, calculul integral, și concluzionează că Leibniz are meritul de a sta alături de Newton în istoria matematicii la capitolul introducerii calculului diferențial și integral. Era o reparație morală târzie, dar astfel Leibniz a fost repus în drepturi și i s-a recunoscut meritul pe care l-a avut la dezvoltarea matematicii.

Ca să înțelegem natura evenimentelor ce-au stat la baza conflictului început în anul 1700, ne vom întoarce la perioada de început a celor doi matematicieni.

La 19 ani, în 1661, Newton se înscria ca elev la Trinity College din Cambridge fiind nevoit ca pentru a-și plăti studiile să execute diverse munci în favoarea școlii sau studenților. Luat sub aripa protecției a marelui profesor Isaac Barrow, Newton își etalează numaidecât propriile porniri de geniu, stabilind o generalizare asupra formulei binomului $(a+b)^n$ pentru un exponent „n” rațional, pozitiv sau negativ. Deși formula pentru n număr întreg era cunoscută cu mult timp înaintea sa, astăzi aceasta poartă denumirea lui, „binomul lui Newton”. Tot în acea perioadă s-a ocupat cu studiul proprietăților luminii descoperind teoria corpusculară a luminii prin explicarea fenomenelor luminoase și dând modelul de descompunere a luminii și cel mai important lucru, a intuit legea gravitației universale comparând forța de greutate a Pământului cu aceea care ține Luna pe orbita ei. Folosindu-se de Legile lui Kepler a dedus că forțele care țin planetele pe orbite trebuie să fie invers proporționale cu pătratele distanțelor lor la centrul în jurul cărora se învârt.

Din 1669, Newton luă locul lui Barrow la catedra de matematică și începu studiul la seriile infinite pe care le publică în 1704 ca o anexă la lucrarea sa „ Optiks” (Optica).

Tot în această perioadă, în 1672, a fost numit membru al Societății Regale din Londra întrucât construisese primul telescop cu reflexie cu care studia sateliții lui Jupiter pentru a-și verifica legea atracției universale la care lucra încă.

Datorită divergențelor apărute între el și Huygens și Robert Hooke cu privire la teoria sa corpusculară a luminii față de teoria ondulatorie susținută de cei doi, Newton se hotărî să nu mai publice nimic, devenind astfel „ sclavul descoperirilor sale” ca să le poată apăra, după cum mărturisea singur în 1676 lui Oldenburg secretarul Societății Regale. Edmund Halley marele astronom și matematician a fost cel care după 11 ani l-a determinat să-și publice întreaga teorie legată de mecanica cerească.

Calculul infimitezimal sau cum îl numea el, calculul fluxionilor avea meritul de a lucra cu mărimi infinite de mici și cu procesul de trecere la limită. Imaginat încă din 1665 de către Newton el a fost cunoscut de către ceilalți matematicieni doar atunci când Newton și-a publicat cartea „ Philosophiae naturalis principia mathematica”(Principiile matematici de filozofie naturală) în 1687, lucrare prin care și-a câștigat locul printre cei mai mari matematicieni și fizicieni din toate timpurile. Acesta datorită faptului că în principiu, descoperirile sale în matematica constituiau doar fundamentul pentru cercetarea fenomenelor naturii și nu reprezenta un scop în sine. Lucrarea era plină de rigoare și se arăta cum se calculează masa Soarelui sau a planetelor, pune bazele teoriei perturbațiilor produse în mersul planetelor de atracția exercitată asupra lor de Soare sau alte planete, explica fenomenul mareelor și mersul cometelor, toate având la bază un calcul diferențial și integral descoperite de el într-o formă mai greoaie dar care i-au facilitat explicarea descoperirilor sale.



Gottfried Wilhelm Leibniz născut în 1646 așadar cu patru ani mai tânăr decât Newton, după ce a studiat matematica la Jena, își dă doctoratul la Universitatea din Altdorf obținându-l la vârsta de 20 de ani. Din această perioadă datează și lucrarea sa „Dissertatio de Arte Combinatoria”(1666). În 1673 este ales membru al Societății Regale din Londra în urma construirii unei mașini de calcul. Întrât în contact cu scrierile lui Pascal, Leibniz întrezărește conceptul de calcul diferențial, cuvânt introdus de el, alături de notațiile

corespunzătoare acestui termen, dx , $\frac{df}{dx}$, \int pentru a nota acele mărimi infinite de mici

precum și cele de calcul integral.

În 1684, publică în revista Acta Eruditorum un articol „Nova methodus pro maximis” prin care prezenta calculul diferențial iar în 1686 prin lucrarea „Analysis infinitorum” prezenta calculul sumatoriu numit mai târziu integral chiar de către Leibniz la sugestia lui Jacob Bernoulli, un matematician care și-a adus și el o contribuție foarte mare la dezvoltarea calculului diferențial alături de fratele său Ioan Bernoulli. Tot în această perioadă și L'Hospital își publică o sinteză a cunoștințelor preluate de la Ioan Bernoulli și prelucrate într-un mod ușor și elegant.

La momentul în care Newton își publică studiul de mecanică cerească (1687), cunoștințele de calcul diferențial ale lui Leibniz începuseră să fie cunoscute de cât mai mulți matematicieni, fapt ce nu l-a nemulțumit pe Newton; din contră, se știe că Leibniz a colaborat cu Newton în dezvoltarea cunoștințelor sale prin intermediul scrisorilor, dar așa cum se proceda la acea vreme, matematicienii nu își expuneau decât rezultatele nu și modul cum se ajungea la ele. Newton avea să constate în 1726 că descoperirile lui Leibniz nu se deosebesc de ale sale decât ca formă nu și ca fond.

Până atunci însă, în 1703 Newton e ales secretarul Societății regale din Londra și odată cu mutarea la Londra devine unul din personajele cele mai importante ale lumii științifice și de aici probabil și orgoliul său cu privire la întâietatea descoperirii calculului integral.

Conflictul care a apărut între Newton și Leibniz pe tema întâietății descoperirii calculului diferențial a început cu matematicianul elvețian Fatio de Duillier care a propus o problemă de cercetare a proprietăților brahisticronei, problemă de care s-a ocupat și Leibniz cu trei ani înainte.

După șase luni, primul care a rezolvat-o deoarece a aflat de ea din întâmplare a fost Newton. Faptul acesta l-a determinat pe Fatio să-i atribuie lui Newton descoperirea calculului diferențial iar pe Leibniz să-l acuze de plagiat. Deși a încercat să se apere de acuzații menționând că însuși Newton îi recunoaște independența descoperirii sale, ceea ce s-a întâmplat este că Newton nu a sărit în apărarea lui și nu a comentat în nici un fel ca și cum n-ar fi știut de acuzațiile care i se aduc lui Leibniz deși în 1703, el devine secretarul Societății Regale și nu are cum să nu fi știut de ceea ce se petrecea. Bătălia între cei doi s-a dat prin intermediul discipolilor lor.

John Keil, discipolul lui Newton scria în 1710 că „toate acestea decurg din metoda fluxiunilor, atât de celebră astăzi, care a fost inventată pentru prima oară, fără îndoială, de Sir Isaac Newton, lucru despre care se poate convinge cu ușurință orișicine ar citi scrisorile sale, publicate de Wallis. Același calcul a fost dat publicității mai târziu de Leibniz în Acta Eruditorum, în care el a modificat numai denumirea, forma și modul de a însemna”.

Făcând plângere către Societatea Regală față de cele scrise de Keil, Leibniz primește în 1712 raportul comisiei de anchetă care-i transmite că „există o identitate între ambele metode, dar descoperirea lui Newton este anterioară” ceea ce îl disculpă pe Keil și îl nedreptățește pe Leibniz care mai suferă și din pricina concepției generale care începe să apară în lucrările multor matematicieni cum că Newton este fondatorul Analizei matematice și că Leibniz a avut la baza cunoștințelor sale, ideile lui Newton.

Deși nedreptățit și neînțeles, Leibniz a continuat să-și susțină ideile și să lucreze neobosit, contribuind la dezvoltarea aritmeticii binare, fiind unul din precursorii logicii matematice, a introdus formula de diferențiere sub semnul integralei, a făcut distincția dintre funcțiile algebrice și funcțiile transcendente, a propus denumirile de abcisă, coordonată, funcție, derivată, diferențială, ecuație diferențială, a dat legea conservării energiei cinetice. Ales președinte al Academiei de Științe din Berlin lui datorându-i-se și înființarea ei în 1700, Leibniz lasă urmașilor o operă impresionantă.

Bibliografie:

[1] Florica T. Câmpan. (1972). A doua carte cu probleme celebre. București: Editura Albatros.

[2] Vasile Bobancu. (2001). Caleidoscop Matematic. București: Editura Niculescu.

[3] Nicolae Mihăileanu. (1981). Istoria matematicii. București: Editura Științifică și Enciclopedică.

Prof., Școala Potoceni

2. Articole și note matematice

Rezolvarea problemelor de concurență și coliniaritate utilizând proprietățile fasciculelor anarmonice

(I)

de Neculai Stanciu

Abstract. This article is devoted to the study of two fundamental and reciprocal questions: when do three given points lie on a single line, and when do three given lines pass through a single point? The techniques we describe in this article will be augmented by more sophisticated approaches, such as the Pappus's theorems, the Desargues's theorems, the Pascal's theorem, the Brianchon's theorem and the Newton's theorem.

The formalism of projective geometry makes a discussion of such properties possible, and exposes some remarkable facts, such as the duality of points and lines. While technique "cross-ratio" of four points, and in the light of duality the cross-ratio of four lines can be useful on contest problems, much of the material here is considered "too advanced" for primary and secondary school education. This is a pity, as some of the most beautiful classical geometry appears only in the projective geometry.

Key words: cross-ratio, bivalent range, harmonic range, harmonic conjugate, concurrence and collinearity .

AMS Classification. 51-xx, 51Axx, 51A05.

Scopul principal al rezultatelor de mai jos este familiarizarea cititorilor cu *noi metode de rezolvare a problemelor de concurență și coliniaritate și anume cu tehnicile oferite de proprietățile fasciculelor anarmonice.*

considerăm fig.1 unde $S(a, b, c, d)$ sau $S(A, B, C, D)$ reprezintă un *fascicul convergent*, cu punctul S propriu de raze

a, b, c, d sau SA, SB, SC, SD și fig.2 în care $S(a, b, c, d)$ este un *fascicul paralel* de raze a, b, c, d sau

SA, SB, SC, SD cu punctul S *impropriu*.

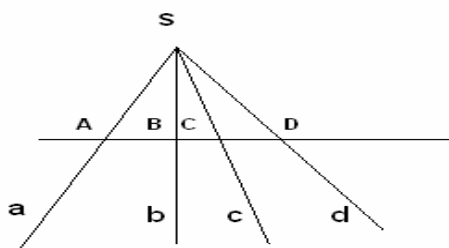


Fig. 1

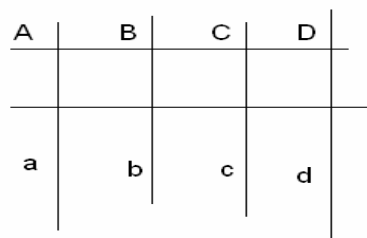


Fig. 2

Dacă diviziunea $(ABCD) \stackrel{def}{=} \frac{CA}{CB} : \frac{DA}{DB}$ este *diviziune armonică* ($(ABCD) = -1$) atunci fasciculul atașat

$S(ABCD)$ se numește *fascicul armonic*.

Biraportul atașat unui fascicul convergent.

Fie fasciculul $S(abcd)$ tăiat de secanta δ (vezi fig.1) în punctele

$A = \delta \cap a, B = \delta \cap b, C = \delta \cap c, D = \delta \cap d$. Dacă $S(XYZ) \stackrel{not}{=} \text{aria triunghiului de vârfuri } X, Y \text{ și } Z,$

$\hat{XY} \stackrel{not}{=} \hat{XSY}, h = d(S, \delta)$, atunci $\frac{CA}{CB} = \frac{CA \cdot h}{CB \cdot h} = \frac{2 \cdot S(CSA)}{2 \cdot S(CSB)} = \frac{S(CSA)}{S(CSB)}$.

$(ABCD) = \frac{CA}{CB} : \frac{DA}{DB} = \frac{S(CSA)}{S(CSB)} : \frac{S(DSA)}{S(DSB)} = \frac{SC \cdot SA \cdot \sin(\hat{ca})}{SC \cdot SB \cdot \sin(\hat{cb})} : \frac{SD \cdot SA \cdot \sin(\hat{da})}{SD \cdot SB \cdot \sin(\hat{db})} =$

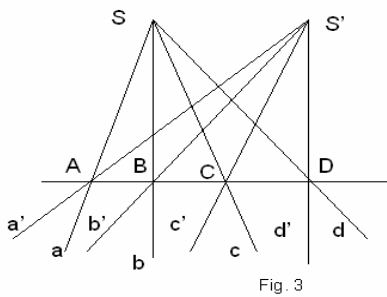
$= \frac{\sin(\hat{ca})}{\sin(\hat{cb})} : \frac{\sin(\hat{da})}{\sin(\hat{db})}$. Dacă $S(abcd) \stackrel{not}{=} \frac{\sin(\hat{ca})}{\sin(\hat{cb})} : \frac{\sin(\hat{da})}{\sin(\hat{db})}$, atunci rezultă $(ABCD) = S(abcd)$.

Teoreme de invarianță

Teorema 1. Fiind date pe dreapta δ , punctele fixe A, B, C, D . Pentru orice $S \notin \delta$, notăm

$a = SA, b = SB, c = SC, d = SD$. Biraportul atașat fasciculului $S(abcd)$ este *invariant*.

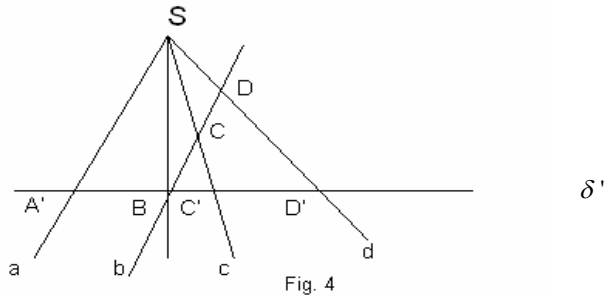
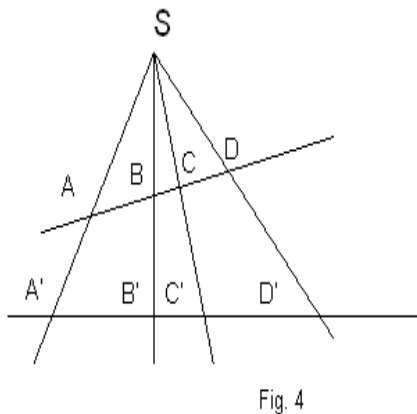
Demonstrație. Fie $S, S' \notin \delta$, ca în fig.3.



Din $S(abcd) = (ABCD)$ și $S'(a'b'c'd') = (ABCD)$ rezultă $S(abcd) = S'(a'b'c'd')$. (q.e.d).

Teorema 2. Fiind dat fasciculul fix de vârf S și raze a, b, c, d . Pentru orice secantă δ care intersectează razele fasciculului în $A = a \cap \delta, B = b \cap \delta, C = c \cap \delta$, și $D = d \cap \delta$, biraportul atașat diviziunii $(ABCD)$ este invariant.

Demonstrație. Fie δ și δ' două secante oarecare (fig.4), care intersectează razele fasciculului în punctele A, B, C, D și A', B', C', D' .



Avem $(ABCD) = S(abcd)$ și $(A'B'C'D') = S(abcd)$. Rezultă $(ABCD) = (A'B'C'D')$. (q.e.d.).

Fasciculul tăiat de o secantă paralelă cu una din raze.

Fie fasciculul $S(abcd)$ și $\delta \parallel a$ (fig.5).

$$(1) S(abcd) = (A'BC'D') = \frac{C'A'}{C'B} : \frac{D'A'}{D'B}, (2) \Delta C'A'S \approx \Delta C'BC \Rightarrow \frac{C'A'}{C'B} = \frac{SA'}{CB},$$

$$(3) \Delta D'A'S \approx \Delta D'BD \Rightarrow \frac{D'A'}{D'B} = \frac{SA'}{DB}. \text{ Din (1), (2) și (3) rezultă } S(abcd) = \frac{SA'}{CB} : \frac{SA'}{DB} = \frac{1}{CB} : \frac{1}{DB} = (A'BC'D').$$

Avem următoarea regulă mnemotehnică pentru scrierea valorii biraportului $\frac{1}{CB} : \frac{1}{DB}$.

Deoarece $\delta \parallel a$ scriem $\delta \cap a = A_i$ (punctul impropriu pe direcția paralelelor $\delta \parallel a$),

$$S(abcd) = \frac{CA_i}{CB} : \frac{DA_i}{DB} \text{ și luom } CA_i : DA_i = 1 \text{ (trecerea la limită } A' \rightarrow A_i). S(abcd) = \frac{1}{CB} : \frac{1}{DB}.$$

Consecință. Fie B, C, D puncte fixe pe dreapta δ , $a \parallel \delta, S \in a, SB = b, SC = c, SD = d$.

Atunci $\forall S \in a, S(abcd)$ este invariant.

Demonstrație. Fie $A_i = \delta \cap a. S(abcd) = (A_iBCD) = \frac{CA_i}{CB} : \frac{DA_i}{DB} = \frac{1}{CB} : \frac{1}{DB} = \text{constant.}$

Bibliografie

- [1] Nicolescu, L., Boskoff, W., Probleme practice de geometrie, Ed. Tehnică, București, 1990.
- [2] Mihăileanu, N. N., Complemente de geometrie sintetică, E.D.P., București, 1965.

Profesor,
Grup Școlar Tehnic, "Sf. Mc. Sava", Berca, Buzău



Fig.1 \$D\$3;\$D\$4 direct sau prin selectarea acestora (în aceste celule se afla x_1, x_2 inițiale).

d) Treccm la rubrica *Subject to Constraints*(se supune restricțiilor) care solicită restricțiile programului. Prin butonul *Add*(adăugare) se deschide caseta de dialog din figura 2



În partea stangă (referința celulă) trecem celula restricției (2) adică D6 de la tastatură sau prin selectare.

Cu *Tab* trecem la cerința din mijloc din care se selectează sensul restricției (<,>,<=,>=,=,înt). În cazul exemplului selectăm >= și trecem la rubrica *restricție* unde se trece partea dreapta din restricția (2) adică 1400. Se validează înregistrarea cu butonul *Add*, trecând la înregistrarea restricțiilor (3), (4), (5), urmând aceleași etape. Se închide această casetă Fig.2

prin *Ok*, revenind automat în *Solver Parameters*

e) Avem posibilitatea să alegem scrierea rezultatului de optimizare direct sau să vedem unele soluții parțiale apropiate de cea optimă. Pentru aceasta selectăm din caseta deschisă butonul *Opțiuni*. În caseta care se deschide selectăm *se propune modelul liniar*(fig 3) apoi selectăm *toate iterțiile* și validăm cu *OK*, revenind în *Solver Parameters*



Fig.3

Cheltueli minime =230 mil.

Observații : 1. Rezultatul obținut poate fi înregistrat în *Manager Scenario* pentru a fi comparat cu alte rezultate obținute prin modificarea funcției obiectiv sau restricțiile programului(fig 5,6)

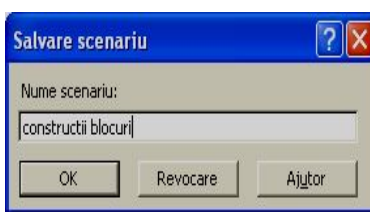
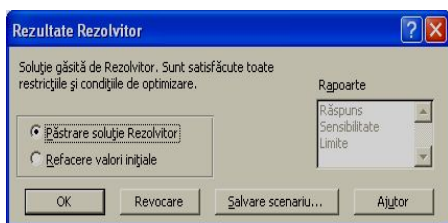


Fig.6 Această metodă se aplică și pentru programe cu $n \geq 3$ variabile care depășeste manualul și programa școlară, dar metoda arătată odată înțeleasă prin exerciții poate fi utilizată pentru automatizarea

oricărui program.

Exerciții propuse: Să se rezolve folosind tehnica *Solver*, următoarele programe care provin din modelarea unor probleme economice, tehnice.

- | | | | | |
|-----------------------|-------------------|------------------|----------------------|------------------------|
| 1) $f=1,2x+1,6y=\max$ | 2) $f=5x+3y=\max$ | 3) $f=x-2y=\min$ | 4) $f=x=y=\max$ | 5) $f=6x+3y+2z+t=\max$ |
| $x/25+y/30 \leq 1$ | $x/2+y/3 \leq 1$ | $x+y-1 \leq 0$ | $2x-y \geq 2$ | $2x+3y+5z+3t=11$ |
| $x/20+y/25 \leq 1$ | $x+y/7 \leq 1$ | $x+2y-2 \leq 0$ | $x-2y \leq 2$ | $5x+7y+12z+4t=20$ |
| $x/35+y/25 \leq 1$ | $x/5+y \leq 1$ | $x; y \geq 0$ | $x+y=5 ; x,y \geq 0$ | $x; y; z;t \geq 0$ |

Bibliografie

- 1) Bogdan Ionescu, Adrian Pană; *Birotica sub Windows*. Edit.Sofiteh A.S.E București 2000
- 2) Cerchez Micu, Teodor Dănet; *Probleme pentru aplicarea matematicii în practică*.
- 3) Ștefan Mirică, Inocențiu Drăghicescu; *Matematica M1- manual pentru clasa a XI a* Edit.Aramis 2003

Prof.,Colegiul Economic Buzău

3. Examene și concursuri

CONCURSUL JUDEȚEAN DE MATEMATICĂ „SCLIPIREA MINȚII”

EDIȚIA a III-a ,
22 NOIEMBRIE 2008, BERCA

Clasa a V-a

1. a) Calculați: $A = \underbrace{[(2^5 + 2^5 + \dots + 2^5)]}_{16 \text{ termeni}} : 4^4 + \underbrace{(3^7 + 3^7 + \dots + 3^7)}_{81 \text{ termeni}} : 9^5 : 25^7$.

b) Fie șirul de numere: 1,3,7,15,31,....

i) Completați șirul cu doi termeni;

ii) Dacă S este suma primilor 16 termeni, aflați $(S+2) : (2^{13}-1)$.

Prof. Marius Giurgiu, G. M nr. 5-6/2008

2. Se dă numărul $A = [3^{112} + 27^{30} \cdot 3^{21} - (3^{81} : 3^{26})^2] : 9^{55}$.

a) Să se calculeze A;

b) Să se determine ultima cifră a numărului 2008^A .

c) Să se scrie numărul 5^A ca suma a trei pătrate perfecte nenule.

Prof. Adrian Stan

3. Un bunic are doi nepoți. Vârsta sa se exprimă printr-un număr de două cifre, fiecare cifră exprimând vârsta unui nepot, astfel că vârsta bunicului este de șapte ori mai mare decât suma vârstelor celor doi nepoți. Să se determine vârsta fiecăruia, dacă peste șapte ani, suma vârstelor celor trei este de 93 de ani.

Prof. Adrian Stan

4. Să se determine numărul natural n din egalitatea: $2^{6n+2} + 8^{2n+2} - 64^{n+1} = 4^{n+5}$

Prof. Neculai Stanciu

Clasa a VI-a

1. Într-o școală, în luna mai 2008, raportul fete:băieți era de 2:3. În prezent, raportul este 1:2, numărul băieților a rămas neschimbat, iar numărul fetelor este cu 10 mai mic. Să se afle câte fete și câți băieți erau în școală în luna mai 2008.

Prof. Neculai Stanciu

2. a) Să se arate că pentru orice numere naturale a,b,c, prime și mai mari ca 1, care verifică relația

$3^a + 27b^2 + 4 \cdot (c + 2) = 738$, numărul $a^2 + b^2 + c^2$ este divizibil cu 83.

b) Să se afle numărul natural n din egalitatea: $8^{(n-4)(n+4)} - 8 = 7 \cdot (8 + 8^2 + 8^3 + \dots + 8^{2008})$.

Prof. Adrian Stan

3. Arătați că numărul $a = 25^{n+2} \cdot 3^n - 3^{n+2} \cdot 5^{2n+2} + 5^n \cdot 15^n$ este divizibil cu 2005, pentru orice $n \in \mathbb{N}^*$.

Prof. Lucica Speciac, G.M.nr. 9/2008

4. Să se calculeze măsurile unghiurilor triunghiului ABC, știind că $m(\hat{B}IC) = 2m(\hat{A})$ și $m(\hat{A}IC) = 3m(\hat{B})$, unde I este centrul cercului înscris în triunghi.

Prof. Constantin Apostol

Clasa a VII-a

1. a) Să se arate că numărul $A = \sqrt{(1 + 3 + 5 + \dots + 2009)^2 - 2008}$ este irațional.

b) Fie $x_1, x_2, \dots, x_n \in \mathbb{R}$ astfel încât $\sqrt{(x_1 - 1)^2} + \sqrt{(x_2 - 1)^2} + \dots + \sqrt{(x_n - 2008)^2} \leq 0$.

Calculați $x_1 + x_2 + x_3 + \dots + x_n$.

Prof. Adrian Stan

2. Rezolvați în mulțimea numerelor întregi ecuația: $2x + xy - y^2 = 13$.

Teodora Niță, G.M.nr. 5-6/2008

3. Să se afle numărul real x din egalitatea:
$$\frac{3 - \sqrt{3,24}}{0,1(3)} = \frac{\sqrt{(8\sqrt{2} - 11)^2} + |1 - \sqrt{2}| + 12}{2 : \sqrt{2 + \frac{x}{2}}}$$

Prof. Adrian Stan

4. Se dă dreptunghiul ABCD și fie E punctul de intersecție a perpendicularei din A pe BD cu paralela prin C la BD. Să se arate că $[BC] = [BE]$.

Prof. Constantin Apostol

„Înțelepciunea nu se împrumută cu carul ci se câștigă cu bobul”
Nicolaie Iorga

„ Un profesor bun e cel care te face ca lucrurile
mai grele să ți se pară ușoare”
Grigore C. Moisil

4. Probleme rezolvate

Clasa a III-a

P:33. Aflați suma tuturor numerelor de trei cifre care se pot scrie cu cifrele 1, 2, 3 luate o singură dată.
Inst. Anton Maria

Rezolvare:

Numerelor de trei cifre distincte sunt: 123 ; 231; 321; 132 ; 213 ; 312 .Atunci
 $123 + 132 + 231 + 213 + 321 + 312 = 1332$

P:34. Completați șirul cu încă trei numere:
2048 ; 512 ; 128;.....;.....;.....

Înv. Lușan Constantin

Rezolvare:

2048 512 128 32 8 2
(numerele se obțin prin împărțirea precedentului la 4)

P:35. Calculează suma numerelor a + b + c știind că:

$$\begin{aligned}3a + 2b + c &= 5234 \\ a + 2b + 3c &= 2110\end{aligned}$$

Înv. Lușan Ion

Rezolvare:

- adunăm cele 2 relații și obținem:

$$3a + 2b + c + a + 2b + 3c = 5234 + 2110$$

$$4a + 4b + 4c = 7344$$

$$4(a + b + c) = 7344 \text{ Rezultă: } a + b + c = 7344 : 4 \quad a + b + c = 1836$$

P:36. Andra scrie în ordine descrescătoare numerele de la 0 la 20, inclusiv 20, și pune între ele semnul „+”. Ea observă că, dacă în locul unui semn „+” pune semnul „=” se stabilește o egalitate adevărată. Între care numere a pus Andra semnul „=” ?

Inst Lușan Nicoleta Gabriela

Rezolvare:

$$20 + 19 + 18 + 17 + 16 + 15 = 14 + 13 + 12 + 11 + 10 + 9 + 8 + 7 + 6 + 5 + 4 + 3 + 2 + 1 + 0$$

Clasa a IV-a

P:37. Trei prieteni au strâns împreună 920 de frunze. După ce primul copil a folosit pentru un colaj 123 de frunze, al doilea 126 de frunze, iar al treilea 344 de frunze, ei au decis să împartă în mod egal frunzele rămase. Câte frunze a avut fiecare copil?

Inst. Anton Maria

Rezolvare:

1. Câte frunze au folosit copiii pentru colaje? $123 + 126 + 344 = 593$ (frunze)

2. Câte frunze au rămas? $920 - 593 = 327$ (frunze)

3. Câte frunze a primit fiecare copil? $327 : 3 = 109$ (frunze)

4. Câte frunze a avut primul copil? $123 + 109 = 232$ (frunze)

5. Câte frunze a avut al doilea copil? $126 + 109 = 235$ (frunze)
 6. Câte frunze a avut al treilea copil? $344 + 109 = 453$ (frunze)

P:38. Trei veverițe se pregătesc pentru iarnă: Rița, Mița și Codița. Rița împreună cu Mița au adunat 145 de alune, Mița împreună cu Codița au adunat 143 de alune, iar Rița împreună cu Codița au adunat 144. Câte alune a adunat fiecare?

*Elev Neacșu Teodor, cls a IV-a
 Înv. Avrigeanu Felicia*

Rezolvare:

Notăm cu: a - numărul de alune adunate de Rița, cu b - numărul de alune adunate de Mița, și cu c - numărul de alune adunate de Codița;

$$\begin{array}{lll} a + b = 145 & b + c = 143 & a + c = 144 \\ a = 145 - b & c = 143 - b & (145 - b) + (143 - b) = 144 \\ a = 145 - 72 & c = 143 - 72 & 288 - 2b = 144 \\ a = 73 & c = 71 & 288 - 144 = 2b \\ & & 144 = 2b \text{ Rezultă, } b=72 \end{array}$$

Răspuns: Rița a adunat 73 de alune, Mița a cules 72, iar Codița 71 de alune.

P:39. Determinați numerele naturale a, b, c știind că:

$$\begin{array}{l} a + b = 123 \\ b + c = 234 \\ c + a = 345 \end{array}$$

Înv. Lușan Ion

Rezolvare:

- adunăm cele 3 relații și obținem:

$$\begin{array}{ll} a + b + b + c + c + a = 123 + 234 + 345 & a + b + c = 351 \\ 2a + 2b + 2c = 702 & b + c = 234 \\ 2(a + b + c) = 702 & a + 234 = 351 \\ a + b + c = 702 : 2 & a = 351 - 234 \\ a + b + c = 351 & a = 117 \end{array}$$

$$\begin{array}{ll} a + b + c = 351 & a + b + c = 351 \\ a + b = 123 & c + a = 345 \\ 123 + c = 351 & 345 + b = 351 \\ c = 351 - 123 & b = 351 - 345 \\ c = 228 & b = 6 \end{array}$$

Verificare: $228 + 117 + 6 = 351$

P:40. Un număr format din 5 cifre are suma cifrelor 37. Succesorul său are suma cifrelor 2. Care sunt cele 2 numere?

Inst. Lușan Nicoleta Gabriela

Rezolvare:

Numărul de 5 cifre care are suma cifrelor 37 este 19999 ($1 + 9 + 9 + 9 + 9 = 37$) astfel încât succesorul numărului este 20000 ($2 + 0 + 0 + 0 + 0 = 2$).

Inst. LUPȘAN NICOLETA - GABRIELA, Berca - Buzău

G:1. Să se determine toate perechile de numere naturale, știind că împărțindu-l pe primul la al doilea și apoi pe al doilea la primul, obținem de fiecare dată, aceeași sumă dintre cât și rest, aceasta fiind egală cu 3.

Prof. Constantin Apostol

Rezolvare:

Fie a și b cele două numere. Putem presupune că $a > b$. Rezultă $a = b \cdot c_1 + r_1, r_1 < b$ și $c_1 + r_1 = 3$. De asemenea, $b = a \cdot 0 + r_2, r_2 < a$ și $0 + r_2 = 3$. De aici deducem că $r_2 = 3$ și $b = 3$.

Așadar, $a = 3 \cdot c_1 + r_1, r_1 < 3$ și $c_1 + r_1 = 3$. Pentru $r_1 \in \{0, 1, 2\} \Rightarrow (a, b) \in \{(9, 3), (7, 3), (5, 3)\}$.

G:3. a) Să se determine cifra x astfel încât numărul $\overline{1x0520}$ să se dividă cu 2008.

b) Să se arate că suma $S = 10 + 10^2 + 10^3 + \dots + 10^n + 12n^2 + 11n$ este divizibilă cu 33.

Prof. Adrian Stan

Rezolvare:

$$\overline{1x0520} = 100520 + 10000x = 1 \cdot 100000 + x \cdot 10000 + 5 \cdot 100 + 2 \cdot 10$$

$$a) \quad = 2008 \cdot 50 + \overline{x0120} : 2008 \Leftrightarrow x = 3.$$

b)

Vom scădea și aduna numărul n după cum urmează, la fiecare putere a lui 10 se va scădea numărul 1 iar la 11n

vom adăuga un n . Rezultă $S = 10 - 1 + 10^2 - 1 + 10^3 - 1 + \dots + 10^n - 1 + 12n^2 + 11n$

$$= 9 + 99 + 999 + \dots + 99 \dots 99 + 12n(n+1) = 9(1 + 11 + 111 + \dots + 11 \dots 1) =$$

$$= 9 \cdot \frac{n(n+1)}{2} + 12n(n+1) = 3 \left[3 \frac{n(n+1)}{2} + 4n(n+1) \right] = 3 \cdot \frac{11n^2 + 11n}{2} : 33$$

Pentru ca numărul să fie divizibil cu 33 trebuie să fie divizibil cu 3 și cu 11 în același timp.

G:4. Arătați că diferența $\overline{aaa} - \overline{bbb}$ este divizibilă cu 3.

Prof. Lupșan Rodica

Rezolvare:

$$\overline{aaa} - \overline{bbb} = 100a + 10a + a - 100b - 10b - b = 100(a - b) + 10(a - b) + a - b = (a - b) \cdot 111 : 3, \text{ deoarece } 111 \text{ este divizibil cu } 3.$$

G:6. Suma a trei numere naturale este 270. Dacă din fiecare se scade același număr se obțin numerele 10, 55 și respectiv 154. Aflați numerele.

Prof. Lupșan Rodica

Rezolvare:

$$(10+x) + (55+x) + (154+x) = 270, \text{ rezultă } 3x = 270 - 219, 3x = 51, x = 17 \text{ atunci numerele sunt } 27, 72, 171.$$

G:7. Să se arate că numărul numerelor naturale mai mici sau egale cu 2008 care nu sunt divizibile cu 3, nici cu 5, nici cu 7, este multiplu de 17.

Prof. Neculai Stanciu

Rezolvare. Fie A - mulțimea numerelor naturale nenule mai mici sau egale cu 2008 divizibile cu 3, B - mulțimea numerelor naturale nenule mai mici sau egale cu 2008 divizibile cu 5, iar C - mulțimea numerelor naturale

$$\text{nenule mai mici sau egale cu 2008 divizibile cu } 7. \text{ Atunci } \text{card}A = \left\lceil \frac{2008}{3} \right\rceil = 669, \text{ card}B = \left\lceil \frac{2008}{5} \right\rceil = 401,$$

$$\text{card}C = \left\lfloor \frac{2008}{7} \right\rfloor = 286, \text{card}(A \cap B) = \left\lfloor \frac{2008}{15} \right\rfloor = 133, \text{card}(B \cap C) = \left\lfloor \frac{2008}{35} \right\rfloor = 57,$$

$$\text{card}(A \cap C) = \left\lfloor \frac{2008}{21} \right\rfloor = 95, \text{card}(A \cap B \cap C) = \left\lfloor \frac{2008}{105} \right\rfloor = 19.$$

$$\text{Din } \text{card}(A \cup B \cup C) = \text{card}A + \text{card}B + \text{card}C - \text{card}(A \cap B) - \text{card}(B \cap C) - \text{card}(A \cap C) + \text{card}(A \cap B \cap C) = 1090.$$

Acum putem afla numărul numerelor naturale mai mici sau egali cu 2008 care nu sunt divizibile cu 3, nici cu 5, nici cu 7. Acestea sunt în număr de $2008 - 1090 = 918 = M_{17}$.

G:8. Determinați baza de numerație x în care are loc egalitatea: $2 \cdot 14_x = 33_x$.

Prof. Ana Panaitescu

Obligatoriu, $x > 4$, $2 \cdot (x + 4) = 3x + 3$, $3x - 2x = 8 - 3$, $x = 5$.

Clasa a VI-a

G:9. Se dă proporția $\frac{x - 2y + 3z}{4x - 3y + 2z} = \frac{2}{3}$. Știind că $y \neq 2z$, să se arate că:

$$\left(\frac{x - 2y + 3z}{4x - 3y + 2z} \right)^2 = \frac{7x - 4y + z}{7x - 9y + 11z}.$$

Prof. Constantin Apostol

Rezolvare:

Din proporția dată, aplicând proprietatea fundamentală a proporțiilor se obține:

$$3x - 6y + 9z = 8x - 6y + 4z \Leftrightarrow 5x = 5z \Leftrightarrow x = z. \text{ Astfel,}$$

$$\frac{7x - 4y + z}{7x - 9y + 11z} = \frac{7z - 4y + z}{7z - 9y + 11z} = \frac{8z - 4y}{18z - 9y} = \frac{4}{9} = \left(\frac{2}{3} \right)^2 = \left(\frac{x - 2y + 3z}{4x - 3y + 2z} \right)^2.$$

G:11. Să se determine numerele $x \in \mathcal{Q}$, $y \in \mathcal{N}$, știind că $x > 2$ și $\frac{x}{11} = \frac{3x + 1}{11y + 2}$.

Prof. Adrian Stan

Rezolvare:

Relația dată este echivalentă cu $x(11y - 31) = 11$, y natural și $11y - 31$ diferit de zero.

$$\text{Din } x = \frac{11}{11y - 31} \Rightarrow y \in \{1, 2, 3, 4, 5\} \Rightarrow x = \frac{11}{2}, y = 3.$$

G:12. Să se determine mulțimea $A = \left\{ (a, b, c) \in \mathcal{N}^* \times \mathcal{N}^* \times \mathcal{N}^* \mid \frac{3ab - 1}{abc + 1} \in \mathcal{N} \right\}$.

Prof. Neculai Stanciu

Soluție. Din $\frac{3ab - 1}{abc + 1} \in \mathcal{N}$, rezultă $3ab - 1 \geq abc + 1 \Leftrightarrow ab(3 - c) \geq 2$, deci $c < 3$.

Analizăm în continuare cazurile:

1) Dacă $c = 1$, atunci notăm $x = ab$ și obținem $\frac{3x - 1}{x + 1} \in \mathcal{N}$ de unde rezultă:

$$\begin{cases} x+1|3x-1 \\ x+1|x+1 \Rightarrow x+1|3x+3 \end{cases} \Rightarrow x+1 \in D_4 \Rightarrow x \in \{1,3\}. \text{ Din } x = ab \in N \text{ avem soluțiile:}$$

$$(a,b) \in \{(1,1), (1,3), (3,1)\}.$$

2) Dacă $c = 2$, avem $\frac{3x-1}{2x+1} \in N$ de unde obținem că

$$\begin{cases} 2x+1|3x-1 \Rightarrow 2x+1|6x-2 \\ 2x+1|2x+1 \Rightarrow 2x+1|6x+3 \end{cases} \Rightarrow 2x+1 \in D_5 \Rightarrow x \in \{2\} \Rightarrow (a,b) \in \{(1,2), (2,1)\}.$$

Cu cele de mai sus se obține: $A = \{(1,1,1), (1,3,1), (3,1,1), (1,2,2), (2,1,2)\}$

G:13. Să se găsească cu cât se modifica produsul a 4 numere dacă primul se mărește cu jumătatea lui, al doilea se mărește cu a treia parte din el, al treilea se micșorează cu a patra parte din el, iar al patrulea se micșorează cu a treia parte din el.

Prof. Ana Panaitescu

Rezolvare:

Produsul prin simplificare dă $\frac{3a \cdot 4b \cdot 3c \cdot 2d}{2 \cdot 3 \cdot 4 \cdot 3} = abcd$, așadar rămâne constant.

G:14. Determinați numerele x, y, z știind ca $x+y+z=45$; $\frac{x}{2} = \frac{y}{3}, \frac{y}{6} = \frac{z}{8}$.

Prof. Ana Panaitescu

Rezolvare: Relația dată este echivalentă cu $\frac{x}{2} = \frac{y}{3} = \frac{z}{4}$. Rezultă $x=10, y=15, z=20$.

Clasa a VII-a

G:15. Să se determine numerele întregi a , astfel încât numărul $a^2 + 7a + 10$ să fie pătratul unui alt număr întreg.

Prof. Adrian Stan

Rezolvare:

$$\text{Fie } k \in Z, a, i, a^2 + 7a + 10 = k^2 \Leftrightarrow 4a^2 + 28a + 40 = 4k^2 \Leftrightarrow 4a^2 + 28a + 49 - 9 = 4k^2$$

$$\Leftrightarrow (2a+7)^2 - (2k)^2 = 9 \Rightarrow (2a+7-2k) \cdot (2a+7+2k) = 9 \Rightarrow$$

$$\text{Cum divizorii lui 9 sunt } \{\pm 1, \pm 3, \pm 9\} \Rightarrow a \in \{-6, -5, -2, -1\}.$$

G:16. În triunghiul ABC , măsurile unghiurilor A, B și, respectiv C , sunt direct proporționale cu numerele 3, 7 și 2. Să se arate că unghiul dintre AB și înălțimea din A este congruent cu unghiul dintre AC și mediana din A .

Prof. Constantin Apostol

Rezolvare: Din relația de proporționalitate a măsurilor unghiurilor se obține:

$$m(\hat{A}) = 45^\circ; m(\hat{B}) = 105^\circ; m(\hat{C}) = 30^\circ. \text{ Se construiește înălțimea din } A: AD \perp BC \ (D \in BC).$$

Din triunghiul dreptunghic ADC cu $m(\hat{ADC}) = 90^\circ$, și $m(\hat{ACD}) = 30^\circ \Rightarrow m(\hat{DAC}) = 60^\circ$.

De aici rezultă, $m(\hat{DAB}) = 60^\circ - 45^\circ = 15^\circ$. (1) Se construiește $BE \perp AC \ (E \in AC)$, și se unește E cu mijlocul M al laturii BC . Rezultă, $AE=BE=EM=BM=MC$. De asemenea

$$m(\hat{AEM}) = m(\hat{AEB}) + m(\hat{BEM}) = 90^\circ + 60^\circ = 150^\circ. \text{ Cum triunghiul } AEM \text{ este isoscel, rezultă}$$

$$m(\hat{EMA}) = m(\hat{EAM}) = 15^\circ. \text{ (2).} \quad \text{Din (1) și (2) rezultă ceea ce trebuia demonstrat.}$$

G:18. Fie $ABCD$ un pătrat, $AB=a$, $M \in (BC)$ și $N \in (CD)$ astfel ca $BM=DN=\frac{a}{4}$ și $\frac{BM}{MC} = \frac{1}{3}$. Calculați sinusul măsurii unghiului MAN .

Prof. Tuță Luca

Rezolvare:

Aplicând Teorema lui Pitagora în triunghiurile dreptunghice ABM , ADN , MCN , APM se obține:

$$AM = AN = \frac{a\sqrt{17}}{4}, MN = \frac{3a\sqrt{2}}{4}, AP = \frac{5a\sqrt{2}}{8}, \text{ după care se exprimă aria triunghiului } AMN \text{ în două}$$

$$\text{moduri, rezultând: } \sin(\hat{MAN}) = \frac{15a^2}{32} \cdot \frac{32}{17a^2} = \frac{15}{17}.$$

G:19. $ABCD$ este un trapez dreptunghic ($m(\hat{A})=m(\hat{D})=90^\circ$ și $DC \parallel AB$) în care $[AD] \equiv [DC]$ și $[AB] \equiv [AC]$.

Știind că $[CM]$ este bisectoarea unghiului \hat{ACD} arătați că:

1. $CM \perp CB$
2. $[CM] \equiv [CB]$
3. $\frac{AD}{MA} - \frac{AN}{AB} = 1$

Prof. Tuță Luca

Rezolvare:

1. Se arată că $m(\hat{MCB}) = 90^\circ$;

CM bisectoare $\Rightarrow m(\hat{C}_1) = m(\hat{C}_2) = 22^\circ 30'$; Se construiește CN perpendiculară pe AB , de unde rezultă că

$ADCN$ este pătrat. $\Rightarrow m(\hat{A}_1) = m(\hat{C}_3) = 45^\circ$; În continuare se arată că, $m(\hat{MCB}) = 90^\circ \Rightarrow CM \perp CB$

deoarece $m(\hat{MCB}) = m(\hat{C}_2) + m(\hat{C}_3) + m(\hat{C}_4) = 90^\circ$;

2. Rezultă din congruența triunghiurilor CDM și CNB ;

3. Se aplică teorema bisectoarei în triunghiul CAD și faptul că $AC \equiv AB$, $DC \equiv AN$.

G:20. Măsurile unghiurilor triunghiului ABC sunt direct proporționale cu numerele 5, 3 respectiv 4. Înălțimea AD = $10\sqrt{3}$ cm și intersectează bisectoarea CM în punctul N; ($D \in BC, M \in AB$). Din M ducem perpendiculara

MP pe latura BC; ($P \in BC$). Aflați :

- perimetrul triunghiului ABC;
- perimetrul patrulaterului MPDN;
- aria triunghiului ANC.

Prof. Ana Panaitescu

Rezolvare:

$$m(\hat{A}) = 75^\circ; m(\hat{B}) = 45^\circ; m(\hat{C}) = 60^\circ. \Delta DAB \text{ dreptunghic isoscel} \Rightarrow BD = AD = 10\sqrt{3}, AB = 10\sqrt{6}$$

$$P_{ABC} = 10(3 + \sqrt{6} + \sqrt{3}) \text{ cm. } P_{MPDN} = 10 + 10(\sqrt{3} - 1) + 10 \frac{\sqrt{3}}{3} + 20(3 - \frac{\sqrt{3}}{3}) = \frac{10}{3}(2\sqrt{3} + 6) \text{ cm.}$$

$$P_{ABC} = 100 \frac{\sqrt{3}}{3} \text{ cm}^2$$

Clasa a VIII-a

G.21. Să se determine funcțiile cu proprietatea: $(x+1)f(x-1) - xf(x+2) = -4x+3$ și să se determine n natural astfel încât $f(1)+f(2)+f(3)+\dots+f(n)=2010$;

Prof. Adrian Stan

Rezolvare:

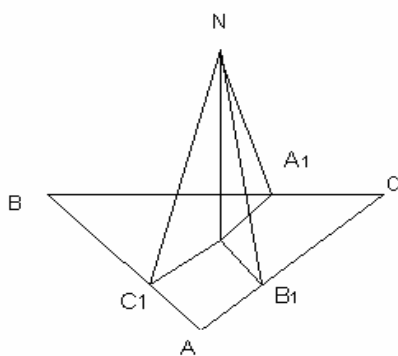
$$\text{Fie } f: \mathbb{R} \rightarrow \mathbb{R}, f(x) = ax + b, a, b \in \mathbb{R}, (x+1)(ax-a+b) - x(ax+2a+b) = -4x+3$$

$$-2ax - a + b = -4x + 3, \text{ de unde rezultă, } a=2; b=5, \text{ rezultă } f(x) = 2x+5.$$

$$f(1)+f(2)+f(3)+\dots+f(n) = 2010 \Leftrightarrow n(2n+7) = 2008 \Rightarrow n = 30.$$

G.22. Prin centrul triunghiului echilateral ABC ducem paralela la BC pe care luăm, în interiorul triunghiului, punctul M. În M ridicăm perpendiculara pe planul (ABC) pe care luăm un punct N și fie A_1, B_1 și C_1 picioarele perpendicularelor din N pe BC, pe AC și, respectiv pe AB. Să se arate că dacă NA_1^2 este media aritmetică a numerelor NB_1^2 și NC_1^2 , atunci M coincide cu centrul triunghiului.

Prof. Constantin Apostol



Rezolvare:

Triunghiul AEF echilateral implică $MB_1 + MC_1 = AO$ (AO este înălțimea triunghiului AEF). $AO = 2MA_1$.

Din faptul că M se află pe paralela EF la BC dusă prin centrul

$$\text{triunghiului, rezultă } MA_1 = \frac{MB_1 + MC_1}{2}. \quad (1)$$

Din ΔNMA_1 dreptunghic în M, se obține:

$$NM^2 + MA_1^2 = \frac{MN^2 + MB_1^2 + MN^2 + MC_1^2}{2}$$

$$\Rightarrow MA_1 = \sqrt{\frac{MB_1^2 + MC_1^2}{2}}. \quad (2)$$

(media pătratică a numerelor MB_1 și MC_1)

Din (1) și (2) rezultă că media aritmetică este egală cu media pătratică a numerelor MB_1 și MC_1 , rezultă că $MA_1 = MB_1 = MC_1$ adică M este centrul de greutate al triunghiului ABC.

G:23. Știind că $x, y \in R_+^*$ și $x < y$, să se compare numerele: $a = \frac{y^3}{x}$ și $b = 2x^2 + xy + y^2$.

Prof. Constantin Apostol

Rezolvare:

O relație de comparare între a și b (și fie aceasta \square) duce la următoarele echivalențe:

$$\frac{y^3}{x} \square (2x^2 + xy + y^2) \mid x \Leftrightarrow y-x \square x \Leftrightarrow y \square 2x.$$

$$\text{Dacă } \begin{cases} y < 2x \\ x < y \end{cases} \Leftrightarrow 2x > y \mid x, \Rightarrow a < b; \quad \text{Dacă } y=2x, \Rightarrow a=b; \quad \text{Dacă } y > 2x, \Rightarrow a > b.$$

LICEU

Clasa a IX-a

L:1. Demonstrați că volumul unui tetraedru este mai mic sau egal cu a 162-a parte din cubul sumei muchiilor care pornesc din același vârf.

Prof. Constantin Apostol

Rezolvare:

Fie V_{ABC} un tetraedru cu înălțimea VO .

$$\text{Avem } V_{V_{ABC}} = \frac{S_{ABC} \cdot VO}{3} \text{ și cum } S_{ABC} = \frac{AC \cdot BC \cdot \sin(\widehat{ACB})}{2} \leq \frac{AC \cdot BC}{2}, \text{ egalitatea având loc}$$

$$\text{pentru } AC \perp BC. \text{ Așadar, } V_{V_{ABC}} \leq \frac{AC \cdot BC \cdot VO}{6} \quad (1). \text{ Cum } VO \leq CV \Rightarrow$$

$$V_{V_{ABC}} \leq \frac{AC \cdot BC \cdot CV}{6} \quad (2). \text{ De asemenea, întrucât media geometrică este mai mică decât media aritmetică,}$$

$$\text{putem scrie: } BC \cdot AC \cdot CV \leq \left(\frac{BC + AC + CV}{3} \right)^3, \text{ egalitatea având loc pentru } BC=AC=VC.$$

$$\text{Așadar, relația (2) devine: } V_{V_{ABC}} \leq \frac{1}{6} \left(\frac{AC + BC + CV}{3} \right)^3 = \frac{(AC + BC + CV)^3}{162}, \text{ egalitatea are loc dacă :}$$

$$AC \perp BC, AC \perp CV, BC \perp CV \text{ și } AC=BC=CV.$$

L:2. Aflați numerele reale a și b astfel încât ecuația:

$$|x^4 + bx + a| + |x^2 - 3x + 2| = 0 \text{ să aibă un număr maxim de soluții.}$$

Prof. Constantin Rusu

Rezolvare: Punem condiția ca ecuația să aibă soluțiile $x_1 = 1, x_2 = 2$ și obținem $a = -15, b = 14$.

L:3. Știind că x, y, z, u reprezintă numere întregi și pozitive diferite, scrise în ordinea

$$1 \langle x \langle y \langle z \langle u, \text{ să se arate că: } xyz + xyu + xzu + yzu \leq \frac{31}{24} xyzu - 1$$

Prof. Daniela Chiricioiu

Rezolvare:

Inegalitatea se mai poate scrie:

$$\frac{xyz + xyu + xzu + yzu + 1}{xyzu} \leq \frac{31}{24} \Rightarrow \frac{1}{xyzu} + \frac{1}{x} + \frac{1}{y} + \frac{1}{z} + \frac{1}{u} \leq \frac{31}{24}$$

Notam $f(x, y, z, u) = \frac{1}{x} + \frac{1}{y} + \frac{1}{z} + \frac{1}{u} + \frac{1}{xyzu}$ și cum $1 < x < y < z < u$, atunci f are un maxim pentru $x=2, y=3,$

$$z=4, u=5, \text{ adică } \frac{31}{24} \Rightarrow f(x, y, z, u) \leq \frac{31}{24}.$$

L:4. Dacă $x_i \in R_+^*, i = \overline{1, n}$, cu $\prod_{i=1}^n x_i = 1$, să se arate că: $\sum_{i=1}^n x_i^2 + \sum_{1 \leq i < j \leq n} x_i x_j \geq \frac{n(n+1)}{2}$.

Prof. Neculai Stanciu

Rezolvare: Aplicăm inegalitate mediilor de două ori și obținem:

$$\frac{x_1^2 + x_2^2 + \dots + x_n^2}{n} \geq \sqrt[n]{x_1^2 x_2^2 \dots x_n^2} = 1 \Leftrightarrow \sum_{i=1}^n x_i^2 \geq n, \text{ respectiv,}$$

$$\frac{\sum_{1 \leq i < j \leq n} x_i x_j}{\frac{n(n-1)}{2}} \geq \frac{n(n-1)}{2 \sqrt[n-1]{(x_1 x_2 \dots x_n)^{n-1}}} = 1 \Leftrightarrow \sum_{1 \leq i < j \leq n} x_i x_j \geq \frac{n(n-1)}{2}$$

Prin adunarea celor două inegalități se obține concluzia.

L:5. Să se arate că:

$$\sqrt{a^2 + 1} + \sqrt{b^2 + 1} + \sqrt{c^2 + 1} \leq 3, \forall a, b, c \in R, \text{ astfel încât } a + b + c = 2 \text{ și } ab + ac + bc = 2.$$

Prof. Adrian Stan

Rezolvare: Se aplică Inegalitatea Cauchy- Buniakowski –Schwarz:

$$(\sqrt{a^2 + 1} + \sqrt{b^2 + 1} + \sqrt{c^2 + 1})(1^2 + 1^2 + 1^2) \geq (\sqrt{a^2 + 1} + \sqrt{b^2 + 1} + \sqrt{c^2 + 1})^2, \forall a, b, c \in R$$

Cum $a^2 + b^2 + c^2 = (a+b+c)^2 - 2(ab+bc+ac)$,

$$\Rightarrow (\sqrt{a^2 + 1} + \sqrt{b^2 + 1} + \sqrt{c^2 + 1})^2 \leq 9, \forall a, b, c \in R, \Rightarrow c.c.t.d.$$

L:7. Se dă numărul $n \in N^*$, care poate fi scris ca produs de k numere naturale consecutive. Să se arate că n poate fi scris ca sumă de k numere naturale consecutive, când k este impar și nu poate fi scris, când k este par.

Prof. Constantin Apostol

Deoarece dintre oricare k numere naturale consecutive, unul este divizibil cu k , deducem că n este multiplu de k , așadar $n = k \cdot m, m \in N^*$.

Presupunem că n se poate scrie ca sumă de k numere naturale consecutive de forma:

$$n = k \cdot m = y + (y + 1) + (y + 2) + \dots + (y + k - 1) = k \cdot y + \frac{(k-1) \cdot k}{2}.$$

Mai departe se face discuție după paritatea lui k

Clasa a X-a

L:8. Să se arate că $\frac{n-k}{n+k} C_{n+k}^k$ este număr întreg.

Prof. Răducan Maria

Rezolvare: $\frac{n-k}{n+k} C_{n+k}^k = \frac{(n-k)(n+k-1)!}{k!n!} = \frac{(n+k-1)!}{k!n!} - \frac{(n+k-1)!}{k!n!} = C_{n-1}^k - C_n^{k-1}$ și prin definiție- numărul submultimilor de câte k elemente care pot fi formate cu n≥k elemente- diferența acestor combinații este număr întreg.

L:9. Să se afle volumul tetraedrului $MABC$, știind că înălțimea din M este de 1 cm și are piciorul în mijlocul laturii (BC), $m(\angle BAC) = 90^\circ$ și măsurile unghiurilor $\angle AMB, \angle AMC$, și $\angle BMC$ sunt proporționale, respectiv cu 2, 3, 4.

Prof. Constantin Apostol, Rm. Sărat

Rezolvare:

Din relația de proporționalitate

$$\frac{m(\hat{A}MB)}{2} = \frac{m(\hat{A}MC)}{3} = \frac{m(\hat{B}MC)}{4} = \alpha \Rightarrow m(\hat{A}MB) = 2\alpha, m(\hat{A}MC) = 3\alpha, m(\hat{B}MC) = 4\alpha.$$

Se arată că $MA=MB=MC=a$, iar cu teorema cosinusului aplicată în triunghiurile MAB, MAC, MBC se obține că $AB^2 = 2a^2(1 - \cos 2\alpha)$, $AC^2 = 2a^2(1 - \cos 3\alpha)$ și $BC^2 = 2a^2(1 - \cos 4\alpha)$. Cum

$$\Delta ABC \text{ este dreptunghic} \Rightarrow BC^2 = AB^2 + AC^2 \Rightarrow 1 - \cos 4\alpha = 1 - \cos 2\alpha + 1 - \cos 3\alpha.$$

După înlocuirea formulelor și rezolvarea ecuației

$$(\cos \alpha - 1)(2 \cos \alpha + 1)(2 \cos \alpha - \sqrt{3})(2 \cos \alpha + \sqrt{3}) = 0.$$

rezultă singura valoare acceptată pentru α este

$$\alpha = 30^\circ, \Rightarrow m(\hat{A}MB) = 60^\circ, m(\hat{A}MC) = 90^\circ, m(\hat{B}MC) = 120^\circ. \text{ Imediat se găsesc lungimile } a=2,$$

$$AB=2; AC = 2\sqrt{2} \Rightarrow S_{ABC} = \frac{2 \cdot 2\sqrt{2}}{2} = 2\sqrt{2} \text{ cm}^2 \text{ și } V = \frac{2\sqrt{2}}{3} \text{ cm}^3.$$

L:10. Rezolvați inecuația:

$$(\sqrt{x} - 1)\sqrt{1 + x + x^2 + \dots + x^{n-1}} \leq (\sqrt{x})^{n^2-n} - 1, x \geq 0, n \in \mathbb{N}, n \geq 2$$

Prof. Constantin Rusu

Rezolvare: Pentru $x = 1$, inecuația se verifică. În continuare se folosește inegalitatea

$\sqrt{a+b} \leq \sqrt{a} + \sqrt{b}, a \geq 0, b \geq 0$ și se demonstrează că $\forall x > 1$ este soluție. Rezultă că inecuația are soluția $[1, \infty)$.

L:11. Se consideră suma: $S_n = 1 \cdot 2 \cdot 3 + 2 \cdot 3 \cdot 4 + \dots + n(n+1)(n+2)$. Să se arate că $\frac{n^4}{4} \leq S_n \leq \frac{(n+3)^4}{4}$.

Prof. Constantin Rusu

Rezolvare: $S_n = \sum_{k=1}^n k(k+1)(k+2) = \frac{n(n+1)(n+2)(n+3)}{4}$ și atunci avem:

$$\frac{n \cdot n \cdot n \cdot n}{4} \leq S_n \leq \frac{(n+3)(n+3)(n+3)(n+3)}{4}, \text{ care demonstrează concluzia.}$$

L:12. Să se arate că $\frac{5}{9} < \frac{\lg 6}{\lg 17} < \frac{13}{20}$

Prof. Daniela Chiricioiu

Rezolvare:

$$\frac{\lg 6}{\lg 17} = \log_{17} 6 = \log_{17} 2 + \log_{17} 3. \text{ Deoarece } 2^8 < 17^2 < 2^9 \text{ și } 3^5 < 17^2 < 3^6 \Rightarrow$$

$8 \log_{17} 2 < 2 \log_{17} 2 < 9 \log_{17} 2$ și $5 \log_{17} 3 < 2 \log_{17} 3 < 6 \log_{17} 3$. De aici prin adunarea inegalităților și ținând cont de

monotonia funcției logaritmice se obține ceea ce trebuia demonstrat: $\frac{5}{9} < \log_{17} 2 + \log_{17} 3 < \frac{13}{20}$

Clasa a XI-a

L:13. Se consideră funcția $f : R - \{1,2\} \rightarrow R$, $f(x) = \frac{1}{x^2 - 3x + 2}$.

Calculați $\sum_{k=3}^n f^{(n)}(k)$ unde $f^{(n)}(x)$ semnifică derivata de ordinul n a funcției $f(x)$.

Prof. Constantin Rusu

Rezolvare:

$$f^{(n)}(x) = (-1)^n \cdot n! \left[\frac{1}{(x-2)^{n+1}} - \frac{1}{(x-1)^{n+1}} \right] \text{ Atunci, } \sum_{k=3}^n f^{(n)}(k) = (-1)^n \cdot n! \left(1 - \frac{1}{(n-1)^{n+1}} \right).$$

L:15. Să se calculeze ($n \in \mathbb{N}$): $\lim_{n \rightarrow \infty} \frac{1 \cdot 4 + 2 \cdot 5 + 3 \cdot 6 + \dots + n(n+3)}{C_{n+3}^n}$

Prof. Daniela Chiricioiu

Rezolvare:

$$1 \cdot 4 + 2 \cdot 5 + \dots + n(n+1) = \sum_{k=1}^n k(k+1) = \sum_{k=1}^n k^2 + 3 \sum_{k=1}^n k = \frac{n(n+1)(2n+1)}{6} + 3 \frac{n(n+1)}{2} = \frac{n(n+1)(n+5)}{3}$$

$$\text{Rezultă că } \lim_{n \rightarrow \infty} \frac{1 \cdot 4 + 2 \cdot 5 + 3 \cdot 6 + \dots + n(n+3)}{C_{n+3}^n} = 2.$$

L:16. Fie funcțiile $f, g, h : R \rightarrow R$, derivabile cu $f(x_0) = a, g(x_0) = b, h(x_0) = c$ și $(fg)'(x_0) = c_1, (gh)'(x_0) = a_1, (hf)'(x_0) = b_1$. Să se calculeze $(fgh)'(x_0)$.

Prof. Neculai Stanciu

$$\text{Rezolvare: } \text{Avem } (fgh)' = f'gh + fg'h + fgh' = \frac{(fg)'h + (gh)'f + (hf)'g}{2}.$$

$$\text{Deci } (fgh)'(x_0) = \frac{aa_1 + bb_1 + cc_1}{2}.$$

Clasa a XII-a

L:17. Să se calculeze: $\int_{\frac{\pi}{6}}^{\frac{\pi}{3}} \frac{(x - \sin x) \cos^{n-2} x}{x^2 \sin^n x} dx, n \in \mathbb{N}.$

Prof. Constantin Rusu

Rezolvare. Cu substituția $t = \frac{\operatorname{tg} x}{x}$, obținem $I = \begin{cases} \ln \frac{3}{2}; n = 1 \\ \frac{\pi^{n-1}(3^{n-1} - 2^{n-1})}{(n-1)(6\sqrt{3})^{n-1}}; n \in N - \{1\} \end{cases}$.

L:18. Să se arate că funcția următoare nu are primitive pe \mathbf{R} : $f(x) = \begin{cases} e^x + x - 1, x \leq 1 \\ \frac{1}{\sqrt{x-1}}, x > 1 \end{cases}$

Prof. Daniela Chiricioiu

Rezolvare:

O primitivă a funcției f , dacă există ar fi următoarea, după ce se impune condiția de continuitate:

$$F(x) = \begin{cases} e^x + \frac{x^2}{2} - x - e + \frac{1}{2} + k, x \leq 1 \\ 2\sqrt{x-1} + k, x > 1 \end{cases},$$

Rezultă că f nu este derivabilă pe \mathbf{R} , deci nu admite primitive pe \mathbf{R} .

L:19. Fie $f: \mathbf{R} \rightarrow \mathbf{R}$, o funcție impară cu proprietatea: $f(x) + 3f(x-3) = x - 4$; Să se calculeze $\int_0^1 f(x) dx$.

Prof. Adrian Stan

Rezolvare: Notăm $f(x) = u$, $f(3-x) = v$, și f impară, rezultă $f(x-3) = -f(-x+3)$. Rezultă $u - 3v = x - 4$

După care se face transformarea $x \rightarrow 3-x$, rezultă, $f(3-x) - 3f(x) = 3-x-4$

$u + 3v = x - 4$

$$-3u + v = -x - 1 \quad \text{Rezultă } u = \frac{16x - 79}{10}, \quad v = \frac{2x - 13}{10}.$$

L:20. Fie $a_0, a_1, a_2, \dots, a_{2008}$, coeficienții polinomului $(x^4 - 3x^3 + x - 2)^{502}$. Să se arate că

$a_0 + a_2 + a_4 + \dots + a_{2008}$ este un număr par.

Prof. Adrian Stan

Rezolvare: Suma coeficienților pari ai polinomului f este dată de relația

$$\frac{f(1) + f(-1)}{2} = \frac{(-3)^{502} + 1}{2} = \frac{3^{502} + 1}{2} = \frac{(4-1)^{502} + 1}{2} = \frac{4M + 1 + 1}{2} = 2M + 1, \text{ care este un număr}$$

impar, unde 3^{502} s-a scris ca un multiplu de 4 l-a care s-a adăugat 1.

L:21. Fie polinomul $(1 + x^2 + x^4)^{502}$ cu rădăcinile $x_1, x_2, \dots, x_{2008} \in \mathbf{C}$; Să se calculeze suma

$$x_1^2 + x_2^2 + \dots + x_{2008}^2.$$

Prof. Adrian Stan

Rezolvare: Fie y_1, y_2, y_3, y_4 soluțiile ecuației $1 + x^2 + x^4 = 0$; $\Rightarrow \sum_{i=1}^4 y_i^2 = (\sum y_i)^2 - 2 \sum y_i y_j = -2 \Rightarrow$

$$\sum_{i=1}^4 x_i^2 = 502 \cdot (\sum_{i=1}^4 y_i^2) = -1004.$$

L:22. Să se calculeze: $\int_2^4 \frac{1}{\sqrt{(x-2)(4-x)}} dx$.

Prof. Neculai Stanciu

Rezolvare: Funcția $f(x) = \frac{1}{\sqrt{(x-2)(4-x)}}$ este nemărginită în punctele $x = 2$ și $x = 4$.

Atunci avem

$$\int_2^4 \frac{1}{\sqrt{(x-2)(4-x)}} dx = \int_2^4 \frac{1}{\sqrt{1-(x-3)^2}} dx = \lim_{\substack{\varepsilon \rightarrow 0^+ \\ \delta \rightarrow 0^+}} \int_{2+\varepsilon}^{4-\delta} \frac{1}{\sqrt{1-(x-3)^2}} dx = \lim_{\substack{\varepsilon \rightarrow 0^+ \\ \delta \rightarrow 0^+}} \arcsin(x-3) \Big|_{2+\varepsilon}^{4-\delta} = \\ = \lim_{\substack{\varepsilon \rightarrow 0^+ \\ \delta \rightarrow 0^+}} [\arcsin(1-\delta) - \arcsin(\varepsilon-1)] = \frac{\pi}{2} + \frac{\pi}{2} = \pi.$$

„Ceea ce nu face inteligența va face timpul”

„Talmud”

„ Cei mai buni discipoli ai unui profesor nu sunt cei care repetă lecțiile după el, ci cei cărora el le-a trezit entuziasmul, le-a fertilizat neliniștea, le-a dezvoltat forțele pentru a-i face să meargă singuri pe drumul lor”

Gaston Berger

5. Probleme propuse

Clasa a III-a

P:41. Mihai și Andrei au avut de rezolvat un număr egal de exerciții. După ce Mihai a rezolvat 12 probleme, iar Andrei 21 de probleme, lui Mihai i-au rămas de rezolvat de 2 ori mai multe probleme decât lui Andrei.

Câte probleme a avut fiecare copil de rezolvat?

Inst. Axente Mirela

P:42. O ladă cu portocale este cu 8 kg mai grea decât una cu banane.

Cât cântărește fiecare ladă, dacă în magazin sunt 5 lăzi cu portocale și 3 cu banane, în greutate totală de 296 kg.

Înv. Ene Rodica

P:43. Îndoitul unui număr însumat cu doimea lui reprezintă 25.

Află numărul.

Înv. Ene Rodica

P:44. Pentru 30 de pui și 16 rațe s-au încasat 850 de lei. Știind că 10 pui valorează cât 6 rațe, să se afle cât costă fiecare pasăre.

Înv. Lupșan Constantin

P:45. Reconstituieți adunarea:

$$\begin{array}{r} \text{MAC} + \\ \text{AC} + \\ \hline \text{MIC} \end{array}$$

Prof. Lupșan Ion

P:46. Bunicul împarte 45 de lei celor 4 nepoți ai săi. După ce primul ar mai primi 2 lei, al doilea ar cheltui 2 lei, cel de-al treilea ar mai primi de la mama aceeași sumă pe care o are de la bunicul, iar cel de-al patrulea și-ar cumpăra o carte cu jumătate din suma primită, sumele celor patru copii ar fi egale.

Câți lei a primit fiecare de la bunicul său?

Inst. Lupșan Nicoleta Gabriela

P:47. Trei silvicultori au împădurit o zonă deluroasă cu 2500 de puiți de plop și mesteacăn.

Știind că s-au sădit de patru ori mai mulți puiți de plop decât de mesteacăn, câți puiți s-au sădit din fiecare specie?

Înv. Marchidanu Florica

P:48. La o masă fiecare persoană consumă câte două pahare de apă minerală a câte 100 ml. Dacă s-a cumpărat o sticlă de 2 litri de apă și la masă participă 6 persoane, câtă apă mai rămâne în sticlă?

Înv. Marchidanu Florica

Clasa a IV-a

P:49. Suma a trei numere naturale este 96.

Aflați numerele știind că primul număr este cât dublul celui de-al doilea număr, iar al treilea este cât suma primelor două numere.

Inst. Anton Maria

P:50. Ce număr se obține dacă din cel mai mare număr de 6 cifre se scade cel mai mic număr de 5 cifre, știind că atât primul cât și al doilea număr se scriu mereu cu cifre distincte?

Înv. Avigeanu Felicia

P:51. Alex și-a cheltuit banii de buzunar astfel: cu jumătate din ei a cumpărat rechizite, cu un sfert din suma rămasă dulciuri, cu jumătate din noul rest jucării și cu restul de 33 lei cărți.

Află câți bani de buzunar a avut Alex.

Înv. Ion Daniela

P:52. Știind că numerele a, b, c satisfac simultan egalitățile

$$a + b = 3112$$

$$b + c = 2474$$

să se calculeze diferența $a - c$.

Înv. Lușan Ion

P:53. Într-o cutie sunt 45 de bomboane. În prima zi, Maria mănâncă o treime din bomboane, iar a doua zi mănâncă $\frac{5}{6}$ din bomboanele rămase. A treia zi împarte bomboanele cu frații ei în mod egal.

Câți frați are Maria?

Inst. Lușan Nicoleta Gabriela

P:54. Suma a trei numere a, b, c este 1986. Știind că b este dublul lui a , iar a este diferența dintre c și b , aflați numerele.

Înv. Marcela Marin

Dan se gândește la un număr. După ce îl înmulțește cu 2, scade 100. Restul obținut îl înmulțește iarăși, cu 2 și din rezultat, scade 300. Din nou, înmulțește restul cu 2, scade 400 și obține 80. La ce număr s-a gândit Dan?

Înv. Marcela Marin

Clasa a V - a

G:32. Să se arate că există o infinitate de perechi de numere naturale cu proprietatea că, împărțindu-l pe primul la al doilea, obținem un cât și un rest, iar împărțindu-l pe al doilea la primul, obținem câtul egal cu primul rest și restul egal cu primul cât.

Prof. Constantin Apostol

G:33. Determinați numărul \overline{abc} , știind că are loc relația: $\frac{\overline{abc}}{(b+c)^2} = a^2$.

Prof. Adrian Stan

G:34. Determinați numerele naturale nenule a, b, c, d, e astfel încât $5^{61} = a^2 + b^3 + c^4 + d^5 + e^6$.

Prof. Luca Tuță

G:35. Suma a două numere naturale este 162, iar suma răsturnatelor este 513. Determinați cele două numere.

Prof. Ștefana Ispas

G:36. Să se determine numerele naturale x și y știind că $x^2 - 5y \in \{2, 3, 7, 8\}$.

Prof. Neculai Stanciu

G:37. Găsiți toate numerele naturale pătrate perfecte mai mici decât 2008, care la împărțirea cu 48 dau restul 16.

Prof. Adrian Stan

G:38. Determinați numerele prime a, b, c astfel încât: $4^a \cdot 8^b \cdot 16^c = 32^8$. *Prof. Simion Marin*

G:39. Determinați $x \in \mathbb{N}$ astfel încât $\frac{5x-49}{20}$ să ia valoarea cea mai mică.

Prof. Lușan Rodica

G:40. Aflați x , dacă fracția $\frac{529}{(2x+3)^2}$ este echiunitară. *Prof. Ion Stănescu*

Clasa a VI - a

G:41. Determinați două fracții, astfel ca diferența lor să fie egală cu produsul lor.

Prof. Luca Tuță

G:42. Să se afle restul împărțirii lui 5^{6^n} la 11.

Prof. Adrian Stan

G:43. Fie a și b două numere naturale nenule.

a) Să se arate că dacă $(a, b) = 1$, atunci $(a + b, ab) = 1$.

b) Să se arate că $(a + b, ab) = 1$, atunci $(a, b) = 1$.

Prof. Constantin Apostol

G:44. Să se rezolve în $\mathbb{Z} \times \mathbb{Z}$ ecuația: $2009 \cdot x + 2008 \cdot y = 2011$.

Prof. Neculai Stanciu

G:45. Se consideră n numere naturale nenule și diferite între ele, notate o dată cu a_1, a_2, \dots, a_n și apoi, în

altă ordine b_1, b_2, \dots, b_n . Arătați că nu putem avea: $\frac{a_1}{b_1} = \frac{a_2}{b_2} = \dots = \frac{a_n}{b_n}$.

Prof. Ștefana Ispas

G:46. Să se rezolve în \mathbb{N}^* ecuația: $\frac{1}{1+2} + \frac{1}{1+2+3} + \frac{1}{1+2+3+4} + \dots + \frac{1}{1+2+3+\dots+n} = \frac{1004}{1005}$.

Prof. Gheorghe Struțu, Prof. Ligia Struțu

G:47. Să se simplifice raportul $\frac{\overline{aaa} - \overline{bbb} + \overline{ccc}}{\overline{ddd}}$.

Prof. Lușan Rodica

G:48. Rezolvați în \mathbb{N} , ecuația: $8+18+28+\dots+2008=1008 \cdot x$

Prof. Simion Marin,

(Dată la concursul taberei de matematică de la Poiana Pinului, iulie 2008)

G:49. Stabiliți paritatea cifrei unităților, a zecilor și a sutelor numărului $A = 7^1 + 7^2 + \dots + 7^{4k}$,
 $k \in \mathbb{N}, k \geq 4$.

Prof. Dumitru Mărgineanu

(Dată la concursul taberei de matematică de la Poiana Pinului, iulie 2008)

G:50. Determinați măsurile unghiurilor unui triunghi știind că sunt exprimate prin numere prime.

Prof. Simion Marin

G:51. Două unghiuri complementare au raportul dintre suma și diferență măsurilor lor, 15. Aflați măsurile unghiurilor.

Prof. Ion Stănescu

Clasa a VII - a

G:52. Să se calculeze $x+y$ dacă: $x^4=y^4+48$, $x^2+y^2=12$ și $x=y+2$.

Prof. Neculai Stanciu

G:53. Fie $a = 2^2 + 4^2 + 6^2 + \dots + 2008^2$ și $b = 1^2 + 3^2 + 5^2 + \dots + 2007^2$. Calculați $\frac{a-b}{1004}$.

Prof. Neculai Stanciu

G:54. Să se arate că suma pătratelor a trei numere întregi consecutive impare, adunată cu 1 dă un număr divizibil cu 12.

Prof. Adrian Stan

G:55. Arătați că orice număr din șirul 1, 2, 3, ..., n este divizorul a cel puțin unui număr din șirul $n+1, n+2, \dots, 2n$.

Prof. Ștefana Ispas

G:56. Să se rezolve în $Q \times Q$ ecuația:

$$2x\sqrt{4+\sqrt{15}} - 2y\sqrt{4-\sqrt{15}} = 5\sqrt{10} + 9\sqrt{6}$$

Prof. Constantin Apostol

G:57. Să se rezolve ecuația: $\frac{1}{2 \cdot 11} + \frac{1}{11 \cdot 20} + \dots + \frac{1}{20 \cdot 29} + \dots + \frac{1}{1997 \cdot 2006} = \frac{167}{x \cdot (3010 - x)}$.

Prof. Gheorghe Struțu

Prof. Ligia Struțu

G:58. Să se arate că numărul $x = \underbrace{\sqrt{100\dots 0200\dots 01}}_{2n+3 \text{ cifre}}$ este natural.

Prof. Gheorghe Dârstaru

G:59. Să se arate că ecuația $x^3 = 64^y + 15$ nu are soluții în $N \times N$.

Prof. Neculai Stanciu

G:60. Să se arate că într-un triunghi dreptunghic ABC cu $m(\hat{A}) = 90^\circ$ și $m(\hat{C}) = 15^\circ$, înălțimea din A este un sfert din lungimea ipotenuzei și să se determine $\sin 15^\circ$.

Prof. Gheorghe Dârstaru

G:61. Fie ABCD un paralelogram. Să se arate că $\frac{AM}{AB} = \frac{1}{n}$, $M \in (AB)$ dacă și numai dacă $\frac{AN}{AC} = \frac{1}{n+1}$

unde $\{N\} \in AC \cap MD$, iar $n \in N, n \geq 2$.

Prof. Luca Tuță

G:62. Se dă triunghiul ABC cu $m(\angle A) = 90^\circ$ și $m(\angle C) = 30^\circ$. Fie D, simetricul lui A față de BC și E, simetricul lui A față de mijlocul laturii (BC). Arătați că $DE = \frac{BC}{2}$. (Dată la concursul taberei de matematică de la Poiana Pinului, iulie 2008)

Prof. Cătălin Iordache

G:63. Fie triunghiul ABC cu $m(\angle A) = 90^\circ$. Arătați că bisectoarea din C și mediana din A sunt perpendiculare, dacă și numai dacă, $m(\angle C) = 60^\circ$. (Dată la concursul taberei de matematică de la Poiana Pinului, iulie 2008)

Prof. Grigore Marin

G:64. Arătați că aria unui trapez dreptunghic ortodiagonal este egală cu produsul dintre media aritmetică și media geometrică a lungimilor bazelor.

Prof. Simion Marin

G:65. Un dreptunghi are aria egală cu aria unui pătrat. Dacă perimetrele lor sunt egale, cum sunt dimensiunile dreptunghiului, comparative cu latura pătratului?

Prof. Ion Stănescu

G:66. Demonstrați că într-un triunghi ABC , $m(\hat{A}) = 2m(\hat{B}) \Leftrightarrow a^2 = b(b + c)$

Prof. Ana Panaitescu

Clasa a VIII - a

G:67. Să se arate că numărul $3^{3n+1} + 2 \cdot 3^{n+1}$ se poate scrie ca o sumă de cuburi a trei numere naturale consecutive.

Prof. Adrian Stan

G:68. Arătați că $91 \mid \sqrt{abcabc}$.

Prof. Lușan Rodica

G:69. Să se stabilească semnul numărului $a = (\sqrt{2008} - 1) \cdot (\sqrt{2007} - 2) \cdot (\sqrt{2006} - 3) \cdot \dots \cdot (\sqrt{1} - 2008)$.

Prof. Adrian Stan

G:70. Determinați patratul numărului $A = \underbrace{33\dots34}_{n-1 \text{ cifre}}$.

Prof. Ștefana Ispas

G:71. Să se determine valorile reale ale lui x și y astfel încât expresia

$E(x, y) = x^4 + y^4 + 2x^2y^2 - 39x^2 - 39y^2 + 2xy - 12x - 12y + 437$ să admită valoare minimă.

Prof. Gheorghe Struțu

G:72. a) Să se arate că toate ecuațiile de gradul II, cu coeficienți diferiți, din mulțimea $\{2, 1, -3\}$, au o rădăcină comună.

b) Generalizare.

Prof. Constantin Apostol

G:73. Să se arate că oricare ar fi numerele întregi m și n , de parități diferite, există numerele întregi a și b , astfel încât, $a(a + m) = b(b + n)$.

Prof. Constantin Apostol

G:74. Se dă expresia $E(x) = X^4 - 3X^2 - 14X - 12$.

a) Descompuneți expresia în factori ireductibili;

b) Arătați că $5^{4n} - 3 \cdot 5^{2n} - 14 \cdot 5^n - 12$ se divide cu $5^{2n} + 2 \cdot 5^n + 4$, oricare ar fi n , număr natural.

(Dată la concursul taberei de matematică de la Poiana Pinului, iulie 2008)

Prof. Mariana Apostol

G:75. Rezolvați în \mathbf{R} inecuația: $\left| \frac{x+4}{x-2} \right| \leq 3$.

Prof. Ion Stănescu

G:76. Se consideră un cub pentru care volumul plus perimetrul bazei este egal cu aria laterală. Câți metri are lungimea diagonalei cubului?

Prof. Neculai Stanciu

G:77. Se dă triunghiul ABC cu $m(\angle A) = 90^\circ$. Să se arate că oricare ar fi punctul M pe (BC) , există punctele N pe (AB) și P pe (AC) , astfel încât triunghiurile MNP și ABC să aibă același centru de greutate.

(Dată la concursul taberei de matematică de la Poiana Pinului, iulie 2008)

Prof. Constantin Apostol

G:78. În vârful A al unui triunghi dreptunghic ABC cu lungimea catetelor $AB=3$ cm și $AC=4$ cm, se ridică perpendiculara SA pe planul triunghiului, astfel încât $SA=\frac{12}{5}$ cm. Să se afle:

- distanța de la S la latura BC;
- măsura unghiului diedru format de planele (SBC) și (ABC);
- aria totală și volumul tetraedrului SABC.

Prof. Luca Tuță

G:79. Pe planul triunghiului ABC având $m(\hat{C}) = 30^\circ$, $m(\hat{A}) = 90^\circ$ și perimetrul egal cu $24 + 24\sqrt{3}$ cm, se ridică perpendiculara AM de 12 cm. Determinați măsura unghiului format de planele (MBC) și (ABC)

Prof. Simion Marin

Clasa a IX - a

L:30. Să se arate că toate parabolele care sunt reprezentările geometrice ale graficelor funcțiilor de gradul II, cu coeficienți diferiți din aceeași mulțime de trei numere reale nenule, au un punct comun.

Prof. Constantin Apostol

L:31. Să se rezolve în \mathbb{R}^* ecuația $\left[\frac{1}{x}\right] + \left[\frac{3}{x}\right] = 3$, unde $[a]$ reprezintă partea întregă a lui a, adică cel mai mare număr întreg mai mic sau egal cu a.

Prof. Neculai Stanciu

L:32. Se consideră numerele reale $a_1, a_2, a_3, \dots, a_{2n-1}, a_{2n}$, $n \in \mathbb{N}^*$, în această ordine, în progresie aritmetică și $S = a_1^2 - a_2^2 + a_3^2 - a_4^2 + \dots + a_{2n-1}^2 - a_{2n}^2$. Să se arate că

$$S = \frac{n}{2n-1}(a_1^2 - a_{2n}^2).$$

Prof. Constantin Dinu

L:33. Fie $a_n = 2^{1-n} \cdot 3^n$, $n \in \mathbb{N}^*$.

a) Să se arate că șirul $(a_n)_{n \in \mathbb{N}^*}$ este o progresie geometrică;

b) Determinați $n \in \mathbb{N}^*$ astfel încât suma $a_1 + a_2 + a_3 + \dots + a_n = \frac{195}{32}$.

Prof. Constantin Dinu

Clasa a X - a

L:34. Să se determine numerele reale $x, y, z \in \mathbb{R}$ din ecuația:

$$\sqrt{2^x(4^y + 8^z)} + \sqrt{4^y(8^z + 2^x)} + \sqrt{8^z(2^x + 4^y)} = \sqrt{2}(2^x + 4^y + 8^z).$$

Prof. Adrian Stan

L:35. Fie $a, b \in \mathbb{R}_+$, cu $a+b=1$.

a) Să se arate că: $a^2 \cdot b \leq \frac{4}{27}$;

b) Să se determine valoarea maximă a funcției $f: \mathbb{R} \rightarrow \mathbb{R}$, $f(x) = \cos^2 x \cdot \sin x$.

Prof. Constantin Dinu

Clasa a XI - a

L:36. a) Să se calculeze $\lim_{x \rightarrow \infty} (\sqrt{x^2 + x + 1} - x)$ și $\lim_{x \rightarrow \infty} (\sqrt[3]{x^3 + x^2 + 2x + 1} - x)$.

b) Să se determine parametrii a și b astfel încât $\lim_{x \rightarrow \infty} (\sqrt[3]{x^3 + x^2 + 2x + 1} - \sqrt{x^2 + x + 1} + 2ax + 3b) = 3$.

Prof. Constantin Dinu

L:37. Să se arate că ecuația $a^x = bx^2 + cx + d$ are cel mult trei rădăcini reale $\forall a > 1, b \in \mathbb{R}^+; c, d \in \mathbb{R}$.

Prof. Neculai Stanciu

L:38. Să se calculeze matricea: $A = \sum_{k=1}^n \begin{pmatrix} k^3 & k(3k+1) \\ (2k-1)^2 & k^2 \end{pmatrix}$.

Prof. Gheorghe Struțu

L:39. Fie matricea $A = \begin{pmatrix} 1 & 2 & 3 & \dots & 2008 \\ 2008 & 1 & 2 & \dots & 2007 \\ 2007 & 2008 & 1 & \dots & 2006 \\ \dots & \dots & \dots & \dots & \dots \\ 2 & 3 & 4 & \dots & 1 \end{pmatrix} \in M_{2008}(\mathbb{R})$.

Calculați $\det A$.

Prof. Neculai Stanciu

L:40. Fie matricea $A = \begin{pmatrix} 1 & 2 & 2^2 & \dots & 2^{2007} \\ 2^{2007} & 1 & 2 & \dots & 2^{2006} \\ 2^{2006} & 2^{2007} & 1 & \dots & 2^{2005} \\ \dots & \dots & \dots & \dots & \dots \\ 2 & 2^2 & 2^3 & \dots & 1 \end{pmatrix} \in M_{2008}(\mathbb{R})$.

Calculați $\det A$.

Prof. Neculai Stanciu

Clasa a XII - a

L:41. Calculați $I(x) = \int \frac{\arccos(e^x)}{e^x} dx, x \in (-\infty, 0)$.

Prof. Constantin Dinu

L:42. Să se arate că $\int_0^2 \sqrt{2^x} dx - 2 \int_1^2 \log_2 x dy = 4$.

Prof. Adrian Stan

L:43. Să se calculeze $\int x \cdot (tg^2 x + 2009) dx$.

Prof. Adrian Stan

L:44. Să se calculeze: a) $\int (1 - x^2)^{2008} dx$;

b) $\int \frac{1}{\sqrt{1-x^2} (2008 + \arcsin x)^{2009}} dx$

c) $\int \frac{1}{x \cdot (2008 + \ln x)^{2009}} dx$

6. Teste pregătitoare pentru tezele cu subiect unic



**Model - Teză cu subiect unic la matematică
Clasa a VII-a, semestrul I, 11.12.2008**

Prof. Adrian Stan,

- Toate subiectele sunt obligatorii.
- Timpul efectiv de lucru este de 2 ore.
- Se acordă 10 puncte din oficiu.

SUBIECTUL I (50 de puncte) – Pe foaia de teză se trec numai rezultatele.

- 4p. 1. a) Rezultatul calculului $(-16):(+4)+6$ este
- 3p. b) Dintre numerele $a = -\frac{3}{7}$ și $b = -\frac{7}{16}$ mai mare este numărul
- 3p. c) Valoarea de adevăr a propoziției “ $2\sqrt{9} - 6$ este irațional ” este
- 4p. 2. a) Soluția ecuației $3(x-4)-8=-10$ este
- 3p. b) Soluția număr întreg negativ a ecuației $x^2=81$ este.....
- 3p. c) Rezultatul calculului $[-120: (-2^2)-25-32: (-4)^2] \cdot (-2)=$
- 4p. 3. a) Rezultatul calculului $\left[\left(-\frac{4}{15} + \frac{1}{3} \right) \cdot (-12,5) - 0,1(6) \right]^2 - 0,5^3$ este
- 3p. b) Dacă $\sqrt{13} = 3,abcd\dots$, atunci produsul $abcd$ este egal cu
- 3p. c) Media geometrică a numerelor $a = 20\sqrt{2}$, $b = 5\sqrt{8}$ este
4. ABCD dreptunghi cu $AB=10\text{cm}$, $BC=6\text{cm}$.
- 4p. a) Perimetrul lui ABCD este.....
- 3p. b) Aria lui ABCD este.....
- 3p. c) Dacă O este intersecția diagonalelor să se calculeze aria triunghiului OAB.
5. ABCD este un trapez isoscel cu $AB \equiv CD$, $AD=6\text{cm}$ M, N picioarele perpendicularelor duse din A respectiv D pe BC cu $BM=5\text{ cm}$ și $m(\widehat{BAM}) = 30^\circ$
- 4p. a) Lungimea liniei mijlocii este.....
- 3p. b) Perimetrul trapezului ABCD este
- 3p. c) Aria trapezului ABCD este

SUBIECTUL II (40 de puncte) – Pe foaia de teză scrieți rezolvările complete.

- 5p. 1. a) Să se arate că numărul $\sqrt{2005n + 2008}$ este irațional pentru orice număr natural n.
- 5p. b) Să se calculeze media aritmetică a numerelor $a = 2\sqrt{32} + 3\sqrt{243} - (\sqrt{512} - \sqrt{1385})$,
 $b = \sqrt{(2\sqrt{3} - 3\sqrt{2})^2} + \sqrt{(4\sqrt{3} - 5\sqrt{2})^2}$.
2. Într-un depozit magazinierul dacă aranjează 55 de cutii pe un singur raft îi mai rămân 135 de cutii nearanjate, iar dacă pune câte 70 de cutii pe fiecare raft atunci îi mai rămân trei rafturi goale.
- 5p. a) Determinați numărul de cutii;
- 5p. b) Determinați numărul de rafturi.
3. ABCD paralelogram cu $AB=8\text{cm}$, $m(\widehat{A}) = 30^\circ$, $AD=4\text{cm}$.
- 5p. a) Desenați paralelogramul și duceți înălțimea DE.
- 5p. b) Calculați aria paralelogramului.
- 5p. c) Dacă M este mijlocul lui DC iar N mijlocul lui BC să se arate că MONC este paralelogram.
- 5p. d) Calculați aria triunghiului CMN.

Model - Teză cu subiect unic la matematică
Clasa a VIII-a, semestrul I, 11.12.2008

Prof. Neculai Stanciu,

- **Toate subiectele sunt obligatorii.**
- **Timpul efectiv de lucru este de 2 ore.**
- **Se acordă 10 puncte din oficiu.**

SUBIECTUL I (50 de puncte) – Pe foaia de teză se trec numai rezultatele.

- 4p. **1. a)** Rezultatul calculului $\sqrt{32} : \sqrt{2}$ este ...
- 3p. **b)** Dintre numerele $a = 3\sqrt{4}$ și $b = 2\sqrt{5}$ mai mic este numărul ...
- 3p. **c)** Valoarea de adevăr a propoziției “ $\sqrt{3}$ este irațional” este ...
- 4p. **2. a)** Rezultatul calculului $3\sqrt{2} - 2\sqrt{2}$ este ...
- 3p. **b)** În intervalul $[0,1]$ există ... numere întregi
- 3p. **c)** Valoarea de adevăr a propoziției “ $|1 - \sqrt{2}| = 1 - \sqrt{2}$ ” este ...
- 4p. **3. a)** Scrieți sub formă de interval $3 < x \leq 10$...
- 3p. **b)** Rezultatul calculului $2x \cdot 5x^2$ este ...
- 3p. **c)** Valoarea de adevăr a propoziției “ $(x+1)^2 = x^2 + 1$ ” este ...
- 4.** Fie $VABCD$ o piramidă patrulateră regulată cu $DB = 4$ și $VA = 4$
- 4p. **a)** Măsura unghiului VBD este egală cu ...
- 3p. **b)** Lungimea segmentului VO este egală cu ...
- 3p. **c)** Lungimea segmentului VA este egală cu ...
- 5.** Un cub $ABCD A' B' C' D'$ are latura $AB = 2$
- 4p. **a)** Perimetrul bazei este egal cu ...
- 3p. **b)** Diagonala cubului este egală cu ...
- 3p. **c)** Diagonala unei fețe este egală cu ...

SUBIECTUL II (40 de puncte) – Pe foaia de teză scrieți rezolvările complete.

- 5p. **1. a)** Calculați $\frac{2}{\sqrt{3} + 2} - (\sqrt{3} + 2)$.
- 5p. **b)** Calculați $(1 + \sqrt{2} + \sqrt{3})^2 - (\sqrt{3} + \sqrt{2})^2 - (\sqrt{3} - \sqrt{2})(\sqrt{3} + \sqrt{2})$.
- 5p. **2. a)** Să se rezolve în R ecuația $|x^2 - 9| + |x + 3| = 0$.
- 5p. **b)** Dacă a și b sunt numere reale cu $a + b = 12$ și $ab = 24$, calculați $\frac{1}{a^2} + \frac{1}{b^2}$ și $\frac{1}{a^4} + \frac{1}{b^4}$.
- 3.** Fie tetraedrul regulat $VABCD$ cu $AB = 2$.
- 5p. **a)** Desenați tetraedrul și înălțimea VO .
- 5p. **b)** Calculați înălțimea VO .
- 5p. **c)** Arătați că $VA \perp BC$.
- 5p. **d)** Calculați măsura unghiului format de dreptele VA și VM .

7. Caleidoscop matematic



„Înțelepciunea și iubirea mea e jocul”
Lucian Blaga

Matematica – un joc

de Prof. Ana Panaitescu

Să facem matematica atractivă, să atragem copii către aceasta prin noi modalități cum ar fi jocul. Prin joc sperăm să atragem elevii spre studiul matematicii, să arătăm ca nu este o știință rigidă cum cred ei sau cum au auzit de la cei mai mari ca ei.

Studiul matematicii este important nu numai pentru cei ce vor îmbrățișa în viitor o profesie cu caracter tehnic. Sunt cunoscute aplicațiile matematicii în cele mai diverse domenii ca: biologia, economia, cibernetica, medicina, etc. Se știe că matematica are calitatea de a contribui la formarea gândirii logice a omului. **M. I. Kalinin** spunea că „matematica disciplinează mintea, ne obișnuiește să gândim logic. Nu degeaba se spune că matematica este gimnastica minții.”

În viața de toate zilele, omului îi sunt necesare deprinderea de a judeca logic, intuiția, spiritul de observație, perspicacitatea, etc., calități care pot fi foarte bine dezvoltate prin rezolvarea de probleme matematice interesante și legate de viață. Acest lucru poate fi făcut nu numai la orele de matematică ci în cadrul familiei sau a cercului de prieteni și colegi, în excursii, tabere, ocazii de a petrece timpul în mod plăcut și util rezolvând probleme de matematică distractivă.

Ca principală formă de activitate și ca bază de comunicare școlară, jocul este prea puțin apreciat și valorificat. Jocul conține cele mai importante elemente ale învățării: inițiativa și autoghidarea precum și posibilitatea de a trăi și simți consecințele propriilor acțiuni. Orice intervenție din afară sau impunerea de reguli precise, obligatorii distrug motivația interioară a jocului transformând-o într-una exterioară elevul se joacă în acest caz doar pentru a place adultului și este dependent de afecțiunea acestuia sau de teama criticii sau pedepsei. Jocul implică anumite procese de gândire și un anumit fel de a vorbi, multe forme de comunicare liberă între copii, iar jocul, ca și discuțiile avute despre el, precum și toate momentele de desfășurare pot deveni prilejuri deosebit de interesante de educație. Pedagogia școlară cunoaște multe tipuri de jocuri: jocuri de cunoaștere, jocuri de cercetare și de ghicit, jocuri ale fanteziei, jocul constructiv configurativ, etc.

Cu ajutorul problemelor distractive și „jocul” matematic putem să atragem spre matematică mai mulți elevi.

Propun câteva tipuri de probleme pentru un eventual opțional la matematică.

- ◆ GEOMETRIE CU CHIBRITURI
- ◆ PĂTRATE MAGICE, SUME ÎNCRUCISATE
- ◆ PRACTICA ȘI GEOMETRIA
- ◆ CU CREIONUL PE HÂRTIE ȘI CU MINTEA TA ZGLOBIE...
- ◆ TRUCURI, MATEMATICE” SI NU NUMAI...

1. Cum aflăm vârsta unei persoane?

Rugăm persoana căreia dorim să-i aflăm vârsta să înmulțească vârsta sa, exprimată în ani, cu 2, la rezultatul obținut să adauge 5, suma obținută să fie înmulțită cu 5. Cerem rezultatul. Acesta va avea ultima cifră 5, pe care o eliminăm din rezultat, iar din numărul rămas se va scădea 2. Diferența obținută va reprezenta vârsta persoanei.

Exemplu:

Presupunând că persoana are 9 ani, efectuăm următoarele operații:

$$9 \times 2 = 18 \quad 18 + 5 = 23 \quad 23 \times 5 = 115 \quad \text{Eliminând ultima cifră se obține 11.}$$

Vârsta calculată este: $11 - 2 = 9$ (ani)

2. Calcul rapid

Orice număr înmulțit cu 11 se calculează rapid astfel: numărul dat se însumează cu numărul dat înmulțit cu 10; De ce?

Exemplu: $35 \cdot 11 = 35 +$ $71 \cdot 11 = 71 +$ $123 \cdot 11 = 123 +$

$$\underline{350}$$

$$\underline{710}$$

$$\underline{1230}$$

$$385$$

$$781$$

$$1353$$

3. Curiozități:

$$9 = (0 \cdot 9) + (0 + 9)$$

$$19 = (1 \cdot 9) + (1 + 9)$$

$$29 = (2 \cdot 9) + (2 + 9)$$

$$39 = (3 \cdot 9) + (3 + 9)$$

.....

$$99 = (9 \cdot 9) + (9 + 9)$$

$$119 = (11 \cdot 9) + (11 + 9)$$

$$129 = (12 \cdot 9) + (12 + 9) \quad \text{De ce ?}$$

.....

4. Ce număr se potrivește?

2	3	4	24
3	2	2	12
4	2	6	48
4	3	4	?

8	6	4
?	9	1
7	5	3

Prof., Școala nr. 8, Rm Sărat

Răspunsurile din numărul trecut:

Curiozități matematice 1. $9999^2 = 9990001$; 2. $1111^2 = 1234321$; 3. $95^2 = 9025$;

Unde este greșeala? 1) $-1=1$ Nu există $\lg(-1)$, prin urmare nu are sens rezolvarea ecuației.

2) $i=0$ Raportul $\frac{-1 - \cos \pi}{\sin \pi}$ e un raport de funcții constante ale căror derivate sunt nule, și nu respectă regula lui L'Hospital.

3) $i \in R$ sau $i \in C$ Nu există $\lg i$, deoarece nu se calculează logaritmi din numerele complexe.

Să ghicim numere

Toate numerele de pe cele cinci tabele se scriu ca sume de puteri ale lui 2 de forma

$a \cdot 2^0 + b \cdot 2^1 + c \cdot 2^2 + d \cdot 2^3 + e \cdot 2^4$ cu a,b,c,d,e fiind 0 sau 1 după cum numărul aparține sau nu tabelului reprezentat de puterea lui 2, adică 2^0 corespunde primului tabel, 2^1 corespunde celui de-al doilea tabel, etc. De exemplu $15 = 1 \cdot 2^0 + 1 \cdot 2^1 + 1 \cdot 2^2 + 1 \cdot 2^3$, adică numărul 15 se găsește doar în primele patru tabele.

„Matematica este un joc care se joacă după anumite reguli simple cu semne fără de înțeles pe hârtie”

David Hilbert

„Când nu mai poți să gândești, începi să ai
idei fixe”

Ernest Renan



8. Poșta redacției

Dragi cititori, elevi și profesori, a apărut al doilea număr al revistei de matematică „**SCLIPAREA MINTII**”, o revistă care promovează studiul matematicii în rândul elevilor noștri, și care, sperăm noi, va aduna tot mai mulți elevi și profesori împreună, din județul Buzău și nu numai, pentru a face din obiectul matematicii o activitate performantă.

Toți aceia care doresc să trimită materiale pentru revistă, constând în articole, exerciții și probleme cu enunț și rezolvare completă, materiale pentru „caleidoscop matematic”, sau orice alte sugestii pentru a îmbunătăți calitatea acestei reviste, o pot face trimițând materialele membrilor colectivului de redacție sau pe adresa redacției Școala cu clasele I-VIII, POTOCENI, Com. MĂRĂCINENI, Jud. BUZĂU, Str. Centrală, nr. 107, Cod: 127327; Tel. 0238556432, cu mențiunea Pentru revista de matematică „SCLIPAREA MINTII”. De asemenea se pot trimite pe adresele de mail: **ady_stan2005@yahoo.com**, **sclipireamintii@yahoo.com**, **stanciuneculai@yahoo.com**, fie materiale tehnoredactate, fie scrise de mână și scanate.

Informații suplimentare se pot obține la Tel. 0238556432, sau vizitând pagina Web:

www.sclipireamintii.110mb.com

Elevii care doresc să trimită rezolvările problemelor trebuie să ia legătura cu profesorii lor și să respecte condițiile ca fiecare problemă să fie rezolvată pe o singură foaie cu specificarea numărului problemei, și a autorului ei, iar la sfârșitul soluției să-și treacă numele și prenumele, clasa și profesorul său, școala și localitatea. (Indicativele **P**, **G** și **L** sunt pentru diferențierea pe învățământ primar, gimnazial respectiv liceal) Fiecare elev poate rezolva și trimite problemele destinate clasei în care se află și pe cele ale ultimelor două clase imediat inferioare precum și pe cele din clasele superioare. Fiecare rezolvare corectă și completă se va nota cu un punct iar elevii cu cele mai mari punctaje vor fi menționați în revistă, urmând să fie premiați cu diplome și cărți.

Data finală până când profesorii și elevii pot trimite materialele și rezolvările pentru numărul 3 al revistei „**SCLIPAREA MINTII**” va fi **1 Martie 2009**. Vă urăm succes și vă așteptăm.

Redacția



RUBRICA REZOLVITORILOR DE PROBLEME

Școala cu clasele I-VIII, nr. 8, "Valeriu Sterian" Rm. Sărat:

Clasa a VI-a: Alecu Cristian(7), Dumitru Dragoș(7), David Alexandra(7), Ionescu Cătălin(6), Dinică Mariana(6), Ion Adina(5), Stoian Ionela(5), Gheorghe Denisa(5), Necula Cătălina(5), Preda Gabriela(5), Dobroiu Nadia(5);

Clasa a VII-a: Aktug Nebahad(8), Untea Alice(8), **Prof Panaitescu Ana;**

Școala Berca(Grup Școlar Tehnologic „ Sf. Mc. Sava”):

Clasa a III-a: Marcu Alexandra, Șomoiaș Andreea, Alexe Rareș, Panaet Roberta, Dascălu Ana Maria, Baci Andrei, Zăvoianu Vlad, **Înv. Ene Rodica;** Dogaru Ioana; Iordache Ciprian, Nistor Răzvan, **Înv. Vrabie Marioara;** Boriceanu Bogdan, Tudor Alexandru, Andronache Lorena, Calen Mădălin, Popa Ana, Popa Mihaela, Cernat Miruna, Chivu Ștefania, Moldoveanu Mina, **Înv. Marchidanu Florica;**

Clasa a IV-a A : Bălălău Bogdan Ionuț, **Înv. Ion Daniela;** Neacșu Teodor, Dascălu Andreea, Vlad Mădălin, Pascu Bianca, Țiboacă Doina, Neagu Cezar, Bratu Raluca, Bahudu Roxana, **Înv. Avrigeanu Felicia;**

Vasile Nichi, Panaete Alexandra, Olaru Cosmin, Dinu Andrei, Leițoiu Adrian, **Înv. Anton Maria;**

Clasa a V-a: Oprea Andreea Bianca(7), Dumitrescu Sânziana Ioana(6), Grama Florin(6), Păpătoiu Gabriel(6);**Prof. Lupșan Rodica;** Marcu Bogdan(10), Năstase Cosmin(8), Rusen Călin(7), Popescu Liviu(7), Vlad Iuliana(6), Buganu Gabriel(6), Brăescu Elena(6), Diaconu Denis(6), Păun Andreea(6), Dogaru Georgiana(5), Dragomir Mădălin(5), Dobre Bianca(5), **Prof. Popa Claudia;**

Clasa a VI-a: Șoigan Mihaela(9), Radu Alexandru(9), Gheorghe Valentin(7), Dragomir Andreea(7), Dogaru Dorina(7), **Prof. Lupșan Rodica;** Dodan Anca(8), Dinu Cristi(8), **Prof. Berca Vasile;**

Clasa a VII-a: Dragomir Florin(10), Neagu Anuța(10), Popa Andreea(10), Castravete Miruna(10), Minea Elena(10), Anton George(10), Dogaru Iulian(10), Stoica Petruț(9), Banu Bianca(9), Coman Eleonora(9), Tănase Bianca(9), Barchizeanu Andra(8), Chivu Adrian(8), Ilie Cristian(8), Jupoiu Marian(8), Constantin Răzvan(8), Iordache Răzvan(7), Prună Iulian(7), Huchiu Roxana(6), Budui Andreea(6), Câmpeanu Cosmin(6), Șerbănescu Valentin(6), **Prof. Stanciu Neculai;** Dodan Bogdan(9), **Prof. Berca Vasile;**

Clasa a VIII-a: Mezei Raluca(7), Șolea Mirela(7) , Preda Ruxandra (6), Jipa Iohana(6), Păpătoiu Andrei(6), **Prof Lupșan Rodica;** Vlad Alexandru(6), Croitoru Victor(6), Marin Florina(6), Tudora Mădălina(6), Pavel Alexandru(4), Cojocaru Tatiana(4), Palcău Cristina(4), Popa Ana Maria(4), Vasile Cosmina(4), Vrabie Lucian(4), Bundă Rareș(4), **Prof. Stanciu Neculai;**

Școala cu clasele I-VIII, Potoceni:

Clasa a V-a: Roșu Laurențiu(9), Cîmpeanu Andreea(8), Luntraru Denisa(8), Necula Elena(7), Păduraru Alexandra(7), Scînteii Bianca(6), Vlăgea Adrian(5), Caloian Bogdan(5);

Clasa a VI-a: Câmpeanu Iulian(10), Soare Georgiana(10), Popescu Mirela(9), Sava Ionuț(8), Martinov Alina(8), Manole Marius(7); Ciocan Irina(6), Tudose Ana Maria(6), Cucu Răzvan(5), Vlăgea Ionuț(5), Popescu Mădălina(5), Damian Cătălin(4), Zaharia Paul(4), Trentea Daniel(4), Ștefan Răzvan(4);

Clasa a VII-a: Bogdan Oana(5); Ilie Denis(5), Gembășel Florica(5), Mihalcea Cătălin(4), Constantin Florin(5), Stan Anton(4), Văleanu Nicolaie(4);

Clasa a VIII-a: Ungureanu Liviu(12), Cîmpeanu Ion(12), Naftan Cristina(12), Tudorie Anca(8), Brezeanu Ioana(8), Moraru Cristian(7), Gembășel Valerică(7), Bărbunea Mirela(6), Albu Florin(5), Roșu Gabriel(4), Mihai Maria(4), Ulmeanu Oana(4);

Prof. Stan Adrian;

Școala cu clasele I-VIII, Smeeni:

Clasa a V-a: Scarlat Roxana (7) , Vasile Georgiana (6), Minea Diana (5), Popa Ramon (5), Velicu Gabriel (5);

Clasa a VI-a: Dragomir Alexandru (6), Cristea Maria (5), Bârzoii Mădălina (5), Chivu Georgiana (5), Stanciu Simona (5);

Clasa a VII-a: Buzatu Camelia (5), Dumitru Cristina (4), Marin Ana (4), Lică Silviu (4), Radu Laura (4);

Clasa a VIII-a: Cristescu Lavinia (5), Apostol Alina (4), Luca Ciprian (4), Bratu Ioana (4), Simion Alin (4);**Prof. Stănescu Ion**

