



**EVALUAREA NAȚIONALĂ  
LA FINALUL CLASEI a VI-a  
Anul școlar 2015 - 2016**

**Matematică și Științe ale naturii  
TEST 1**

**Județul/sectorul .....**

**Localitatea .....**

**Unitatea de învățământ .....**

**Numele și prenumele elevei/elevului .....**

.....

**Clasa a VI-a .....**

**Băiat**

**Fată**

## Parcul Natural Lunca Mureșului

Parcul Natural Lunca Mureșului este situat în vestul României și este cunoscut pentru vegetația bogată și pentru diversitatea păsărilor. Parcul are o suprafață de  $174,55 \text{ km}^2$  și se întinde de-a lungul râului Mureș, fiind un important loc de cuibărire și tranzit pentru circa 200 de specii de păsări, precum acvila țipătoare mică, rața cârâitoare mică, barza neagră, stârcul cenușiu, egreta mică etc., multe dintre aceste specii fiind protejate pe plan internațional.

În drumețiile prin acest parc natural pot fi zărite și unele mamifere, precum cerbul, mistrețul, vulpea, vidra, popândăul, dar și amfibieni și reptile precum brotăcelul, buhaiul de baltă cu burta roșie, broasca de lac, tritonul crestat, șopârta cenușie, năpârca, broasca țestoasă de apă.

Administrația Parcului Natural Lunca Mureșului deține în interiorul ariei protejate Centrul de vizitare Ceala și Punctul de informare turistică Cenad.

**Pentru a răspunde la cerințele 1 – 5, citește următorul text:**

Râul Mureș traversează Transilvania de la est la vest.

În tabelul următor sunt prezentate informații despre suprafețele unor județe prin care trece râul Mureș și despre lungimea cursului râului Mureș prin aceste județe.

Județul	Alba	Arad	Mureș	Timiș
Aria suprafeței județului ( $\text{km}^2$ )	6242	7754	6714	8697
Lungimea cursului râului Mureș prin județ (km)	141	192	180	21

Cod  1  0  9

**1. Încercuiește litera corespunzătoare răspunsului corect.**

Conform informațiilor din tabel, aria suprafeței județului Mureș este egală cu:

- a)  $6242 \text{ km}^2$
- b)  $6714 \text{ km}^2$
- c)  $7754 \text{ km}^2$
- d)  $8697 \text{ km}^2$

Cod  1  0  9

**2. Încercuiește litera corespunzătoare răspunsului corect.**

Conform informațiilor din tabel, aria suprafeței județului Arad este mai mare decât aria suprafeței județului Alba cu:

- a)  $472 \text{ km}^2$
- b)  $943 \text{ km}^2$
- c)  $1512 \text{ km}^2$
- d)  $7754 \text{ km}^2$





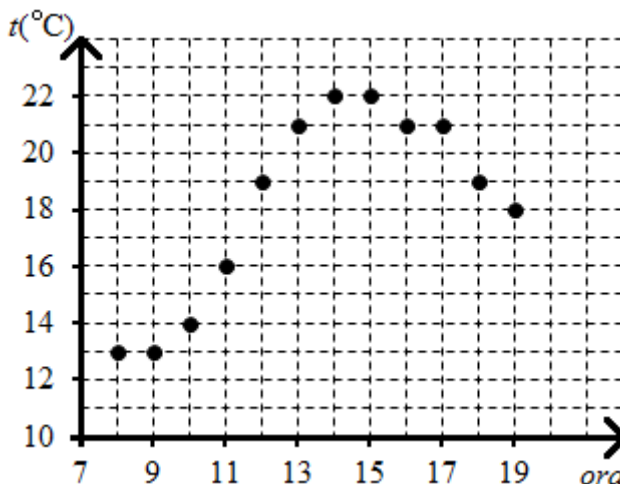

Cod **1 0 9**

8. Valorile temperaturilor înregistrate pe parcursul unei zile, între ora 8 și ora 19, la o stație meteo din Parcul Natural Lunca Mureșului, sunt prezentate în diagrama alăturată.

Încercuiește litera corespunzătoare răspunsului corect.

Variația temperaturii între ora 9 și ora 12 a fost egală cu:

- a) 19°C
- b) 13°C
- c) 8°C
- d) 6°C



Cod **21 11 12 00 99**

9. Pe traseul de agrement din pădurea Ceala pot fi observate specii de păsări specifice zonei. Asociază fiecare exemplu de pasăre din coloana A cu grupa de păsări căreia îi aparține, din coloana B. Scrie litera corespunzătoare în spațiul punctat din dreptul fiecărei cifre a coloanei A. Una dintre grupele de păsări nu permite nicio asociere.

Coloana A	Coloana B
..... 1. Barza neagră	a) este pasăre răpitoare de zi
..... 2. Rața cârâitoare mică	b) este pasăre răpitoare de noapte
..... 3. Uliul păsărar	c) este pasăre înotătoare
	d) este pasăre picioroangă

Cod **2 1 0 9**

10. În Lunca Mureșului, în ultimii ani, a fost observat castorul, rozător de talie mare care preferă scoarța copacilor. Acesta locuiește în adăposturi săpate în malul râului. Castorul dispăruse de pe teritoriul României de aproape două sute de ani.

Menționează două cauze posibile ale dispariției castorului.

---



---



---




---



---



12. În cazul deplasării pe timp de noapte, în echipamentul turiștilor trebuie să se găsească și o lanternă. Desenează schema circuitului electric al unei lanterne. Circuitul este alcătuit dintr-o baterie, un bec, conductoare de legătură și un întrerupător.



13. Unul dintre traseele de biciclete străbate Pădurea Ceala și are o formă relativ circulară. Acest traseu trece pe la obiective importante, cum ar fi și cel mai gros arbore din pădure.

Scrive două argumente, în favoarea mediului înconjurător, pentru ca deplasarea prin pădure să se realizeze pe jos sau cu bicicleta și nu cu mașina.

---



---



---





---



---

14. În Parcul Natural poate fi văzut și chiparosul de baltă, un arbore originar din America. Din ramurile tinere se obține uleiul esențial de chiparos, care are densitatea de  $980 \frac{\text{g}}{\text{dm}^3}$ . Calculează masa de ulei esențial de chiparos care încapă într-o sticlă cu volumul de  $1000 \text{ cm}^3$ . Exprimă rezultatul în kilograme.





Cod **2** **1** **0** **9**

15. În anul 2015 a fost organizată o competiție națională „Natura în școli și școala în arii protejate”. Câștigătorii au mers într-o tabără gratuită „Junior Ranger”, organizată într-una dintre cele mai interesante arii protejate din România. Una dintre probele de selecție a fost propunerea unei teme de proiect pentru ariile protejate.

Propune și tu o temă de proiect privind ariile naturale protejate și o activitate care se poate desfășura în cadrul acestui proiect.

---

---

---

---

---

---

---

---

**FELICITĂRI, AI AJUNS LA SFÂRȘITUL TESTULUI!**